



T.C. Ölçme, Seçme ve Yerleştirme Merkezi

**YÜKSEKÖĞRETİM KURUMLARI SINAVI
ALAN YETERLİLİK TESTLERİ (AYT)**

28 HAZİRAN 2020 PAZAR

Bu testlerin her hakkı saklıdır. Hangi amaçla olursa olsun, testlerin tamamının veya bir kısmının Merkezimizin yazılı izni olmadan kopya edilmesi, fotoğrafının çekilmesi, herhangi bir yolla çoğaltılması, yayımlanması ya da kullanılması yasaktır. Bu yasağa uymayanlar gerekli cezai sorumluluğu ve testlerin hazırlanmasındaki mali külfeti peşinen kabullenmiş sayılır.

DİKKAT!

Din Kültürü ve Ahlak Bilgisi dersini yasal olarak almak zorunda olan adaylar ve İmam Hatip Okulları öğrencileri/mezunları, Sosyal Bilimler-2 Testi'nin ilk 40 sorusunu cevaplamakla yükümlüdür. Bu adaylar, bu testin 41-46. sorularını cevaplamazlar. Bu adaylar, bu testin 41-46. sorularında işaretleme yapmış olsalar bile bu cevapları değerlendirmeye alınmayacaktır.

Din Kültürü ve Ahlak Bilgisi dersini yasal olarak almak zorunda olmayan veya farklı müfredat ile alan adaylar, Sosyal Bilimler-2 Testi'nin 35-40. sorularını cevaplamadan 41-46. sorularını cevaplayacaklardır. Bu adaylar, bu testin 35-40. sorularında işaretleme yapmış olsalar bile bu cevapları değerlendirmeye alınmayacaktır.

AÇIKLAMA

1. Bu kitapçıkta toplam **166 soru** bulunmaktadır.
Türk Dili ve Edebiyatı-Sosyal Bilimler-1 Testi: 40 soru
Sosyal Bilimler-2 Testi: 46 soru
Matematik Testi: 40 soru
Fen Bilimleri Testi: 40 soru
2. Bu sınav için verilen cevaplama süresi **180 dakikadır (3 saat)**.
3. Bu sınav puanlanırken, her testteki doğru cevaplarınızın sayısından yanlış cevaplarınızın sayısının dörtte biri çıkarılacak ve kalan sayı o bölümle ilgili ham puanınız olacaktır.
4. Kitapçığın sayfalarındaki boş yerleri müsvedde için kullanabilirsiniz.
5. Cevaplamaya, istediğiniz sorudan başlayabilirsiniz. Bir soru ile ilgili cevabınızı, cevap kâğıdında o soru için ayrılmış olan yere işaretlemeyi unutmayınız.
6. Bu kitapçıkta yer alan her sorunun sadece bir doğru cevabı vardır. Cevap kâğıdında bir soru için birden çok cevap yeri işaretlenmişse o soru yanlış cevaplanmış sayılacaktır. İşaretlediğiniz bir cevabı değiştirmek istediğinizde, silme işlemini çok iyi yapmanız gerektiğini unutmayınız.
7. Sınavda uyulacak kurallar bu kitapçığın arka kapağında belirtilmiştir.

1. Bu testte sırasıyla, Türk Dili ve Edebiyatı (1-24), Tarih-1 (25-34), Coğrafya-1 (35-40) alanlarına ait toplam 40 soru vardır.
2. Cevaplarınızı, cevap kâğıdının Türk Dili ve Edebiyatı-Sosyal Bilimler-1 Testi için ayrılan kısmına işaretleyiniz.

1. Günümüz dünyasında insanların davranış ---- zamana, duruma ve ortama göre değişmekte; bir durumda gösterilen tepki ile diğer durumdaki arasında ---- fark olabilmektedir. Böyle olunca da tutum ve davranışın her insan için sınırsız örneklerini görmek ----.

Bu parçadaki boşluklara sırasıyla aşağıdakilerden hangisi getirilmelidir?

- A) ölçüleri - dağlar kadar - şaşırtıcıdır
B) kalıpları - bir elin parmakları kadar - mümkündür
C) sınırları - öngörülemez - sıradanlaşmıştır
D) biçimleri - geceyle gündüz gibi - kaçınılmazdır
E) özellikleri - ciddi bir oranda - tartışılmazdır

2. *Hamlet*'i zaman zaman tekrar okuyup tepkimizi kâğıda dökmek yaşam öykümüzü yazmak gibi olur çünkü biz yaşamı daha yakından tanıdıkça Shakespeare, bildiklerimiz üstüne farklı yorumlar getirir.

Bu cümleyle anlatılmak istenen aşağıdakilerden hangisidir?

- A) Yaşam hakkında tecrübe edinmenin en kolay yolunun kitaplardan geçtiği
B) Bireysel tecrübeler arttıkça okumalardan çıkarılan anlamların çeşitlendiği
C) Okurun her kitapta kendi yaşamından parçalar bulup yazarla bağ kurabildiği
D) Okurun kültürel birikiminin, okuma ediminden aldığı hazzı yoğunlaştırdığı
E) Kitapların yeniden yorumlanmasında modern çağın beklentilerinin öne çıktığı

3. Eski bir Hint yaratılış mitine göre evren, tanrıların Purusa adlı tarih öncesi devî parçaladıkları zaman yaratılmıştır; devin başı gökyüzü, ayakları yeryüzü, nefesi de rüzgâr olmuştur. Eski Çağ filozofu Aristoteles'e göre evren eş merkezli elli beş kristal küreden oluşmaktaydı. En dıştaki küre gökyüzünü temsil ediyor; gezegenleri, Dünya'yı ve onun öğelerini, son olarak da cehennemi temsil eden yedi küreyi sarmalıyordu. Yeni Çağ'da Newton'un, hareketi matematiksel olarak kesin ve belirlemci bir biçimde formüle etmesi sonucunda evrenin tanımı yeniden değişti. Evren çok büyük bir mekanik saate benzetildi; zembereği kurulup başlangıç ayarı yapılmış olan evren, bir andan diğerine tam bir düzenlilik ve öngörülebilirlikle tıkır tıkır ilerliyordu.

Bu parçadan hareketle aşağıdakilerden hangisine ulaşılabilir?

- A) Bilim ilerledikçe evrenin yaratılışına dair yapılan açıklamalar halk anlatılarından uzaklaşmış ve kesinlik kazanmıştır.
B) Her dönemin edebiyatçı ve felsefecileri, evrenin yapısı hakkında o dönemin bilim insanlarından farklı açıklamalar sunmuştur.
C) Evrenin nasıl oluştuğuna ve yapılandığına ilişkin açıklamalar çağlara göre farklılık göstermiştir.
D) Evrenin sonsuzluğu ve sürekli değişimi, evren konusunda üretilen teorilerin de devamlı yenilenmesini sağlamıştır.
E) Her uygarlığın özgül inançları, o uygarlığın evrenin yapısı hakkında ürettiği hikâyeleri belirlemiştir.

4. Bilim tarihi, yanlış önergelerin tarihidir. Fakat düşünceci gelişimine işaret eden bu önermeler, dikkate değer bir üretkenliğe sahiptir. Belirli düzeyde doğruluk payı içeren bu önermeler insan ve doğa hakkında nesnel olarak geçerli bilgiye ulaşmak için ortaya konulan rasyonel görüşlerdir. Bunlar gibi, insana ve topluma dair çok sayıda temel görüş ilk ifadelerini mitlerde, peri masallarında ve birkaç kuşak sonra doğru olmadığı kanıtlanan bilimsel varsayımlarda bulmuştur.

Bu parçaya göre “yanlış önergeler”le ilgili aşağıdakilerden hangisi söylenebilir?

- A) Kişiden kişiye değişkenlik göstermesi benimsenmesini güçleştirmiştir.
- B) İleri sürülen bilgilerin doğruluğunu sınamak için ortaya çıkmıştır.
- C) Sözlü kültür ürünlerinin kalıcılığını sağlamada etkili olmuştur.
- D) Kuşaktan kuşağa aktarılması güvenilirliğini ve doğruluğunu artırmıştır.
- E) Fikirlerin olgunlaşip değer kazanmasında önemli bir rol oynamıştır.

5. Bilim kurgu, bilimdeki yeniliklerle birlikte XIX. yüzyılın ortalarından itibaren gelişen bir edebî türdür. Türün iki örnek yazarı, Jules Verne ve H. G. Wells, eserlerinde bilimin yeni yüzyılın başlangıcına kadar imkânsız görüleni, örneğin denizaltıları ve uzay araçlarını, mümkün kılma konusundaki maharetini anlatmışlardır. Sinema, günün şartlarında mümkün görülmeyeni gösterebilme özelliğinden dolayı bu tür için doğal bir mecradır. Ne var ki bilim kurgunun beyaz perdede yer bulması, diğer pek çok türden daha düzensizdir. Sinemanın ilk yıllarında sadece birkaç bilim kurgu filmi yapılırken bu tür ancak 1950'lerden sonra gelişme gösterebilmiştir.

Bu parçadan hareketle bilim kurguyla ilgili aşağıdakilerden hangisine ulaşılamaz?

- A) Hayal gücü ve bilimsel gelişmelerin birleşimiyle ortaya çıkmıştır.
- B) Türün karakteristik niteliklerine bazı yazarların metinlerinde rastlanmaktadır.
- C) Sınırlılıkları aşmada bilimin bir araç olarak kullanılabilirliğini göstermektedir.
- D) Türün sinema yapımları edebî örneklerinden daha fazla ilgi görmüştür.
- E) Sinemanın sağladığı görsellik imkânı sayesinde sinemada kendine yer bulmuştur.

6. Yeni bir operanın temsili sırasında C. W. Gluck zaman zaman koltuğundan kalkar, yavaşça eğilir, sonra tekrar oturmuş. Yanındaki arkadaşı fısıldamış: “Üstat, neden böyle kalkıp oturuyorsunuz?” Gluck yanıtlamış: “Yapıtta geçen eski tanıdık melodileri selamlıyorum.”

Bu parçaya göre Gluck, davranışıyla aşağıdakilerden hangisini göstermek istemektedir?

- A) Klasikleşen ve sevdiği eserlere duyduğu saygıyı gizlemek
- B) Genç bestekârları daha fazla eser vermeye teşvik etmek
- C) Sanatın sürekliliğini ve gelenekten beslendiğini anlatmak
- D) Yeni eserlerdeki özgün ve modern tarzlara dikkat çekmek
- E) Eserin içeriğinin ve icrasının ayrı şeyler olduğunu göstermek

7. Vermez selâm o serv-i hırâmân gelir geçer
Yollarda ömr-i âşık-ı nâlân gelir geçer

Bu beyitte altı çizili sözle yapılan edebî sanat aşağıdakilerden hangisidir?

- A) İstiare B) Tevriye C) Mecazımürsel
D) Teşhis E) İntak

8. Zannetme ki güldür, ne de lâle,
Âteş doludur, tutma yanarsın
Karşında şu gülgün piyâle!

İçmişti Fuzûlî bu alevden,
Düşmüştü bu iksir ile Mecnun
Şi'r'in sana anlattığı hâlê

Bu dizelerle ilgili aşağıdakilerden hangisi söylenemez?

- A) Divan şiirinin benzetme öğelerinden yararlandığı
B) İçerik açısından epik şiir nitelikleri taşıdığı
C) Deneyimlerin eğretileme yoluyla aktarıldığı
D) Ahenk sağlamak amacıyla iç kafiye başvurulduğu
E) Telmih aracılığıyla kurmaca ve gerçek kişiliklere yer verildiği

9. Benim yârim bana küsmüş
Zülfünü gerdana düzmüş
Muhabbeti benden kesmiş
Sevilmeyi sevilmeyi

Çağır Karac'oğlan çağır
Taş düştüğü yerde ağır
Yiğit sevdiğinden soğur
Sarılmayı sarılmayı

Bu dizelerle ilgili aşağıdakilerden hangisi söylenemez?

- A) Birden fazla kafiye çeşidi içerdiği
B) İçeriğinin koşma ile benzerlik taşıdığı
C) 8'li hece ölçüsü ile kaleme alındığı
D) Çapraz kafiye düzeniyle yazıldığı
E) İrsalî mesel sanatına yer verildiği

10. Denizde balığa rızkın virürsün
Hakîmü razık-u-rahman Hudâyâ
Bu cümle mahlûkatın rızkı sende
Kılursun daima ihsan Hudâyâ
Kimisi renc ile daim iniler
Kiminin derdine derman Hudâyâ
Kimisi ağlamakdan gözsüz olmuş
Gice gündüz işi efgan Hudâyâ

Bu beyitlerle ilgili aşağıdakilerden hangisi söylenemez?

- A) Mübalağa sanatına başvurulduğu
B) Naat türüne örnek olduğu
C) İlahi ile konu olarak benzeştiği
D) Kafiye ve redifin kullanıldığı
E) Tezat sanatına yer verildiği

| Eser Adı | Eser Özelliği |
|----------------------------------|--|
| I. <i>Divân-ı Hikmet</i> | • Ahmet Yesevi ve dervişleri tarafından öne çıkarılan bir türe ait şiirlerin toplandığı eser olarak bilinir. |
| II. <i>Muhakemetü'l Lugateyn</i> | • Kaşgarlı Mahmut tarafından yazılan bu eser, Türkçe-Arapça sözlük niteliğindedir. |
| III. <i>Atabetü'l Hakayık</i> | |
| IV. <i>Dede Korkut Kitabı</i> | |
| V. <i>Divânu Lugâti't-Türk</i> | • Birçok hikâyeden oluşan bu eser, Oğuzların sosyokültürel hayatını kurgusal bir anlatımla ele alır. |

Yukarıdaki eser adları ile özellikleri eşleştirildiğinde hangi iki eser adı dışta kalır?

- A) I ve II B) I ve IV C) II ve III
D) III ve V E) IV ve V

12. Edeblü ol cân isen
Hakk'ı bil insan isen
Müşâk-ı Sultân isen
Var edeb öğren edeb

Bu dörtlüğün nazım türü aşağıdakilerden hangisidir?

- A) Nutuk B) Devriye C) Şathiye
D) Güzelleme E) Münacaat

13. Aşağıdakilerden hangisi İslamiyet öncesi Türk destanlarından biridir?

- A) *Cengiz Han Destanı*
B) *Köroğlu Destanı*
C) *Satuk Buğra Han Destanı*
D) *Danışmend Gazi Destanı*
E) *Bozkurt Destanı*

14. Bâtil isteyü hakdan ayrıldum
Boynuz umdum kulakdan ayrıldum

Ne yüküm bir nefes giderici var
Ne biraz çekmeğine yarıcı var

Ger tonuzlara olmaya buyruk
Âh gitti kulağ ile kuyruk

Bu beyitler aşağıdaki eserlerin hangisinden alınmıştır?

- A) *Harnâme* B) *Şikâyetnâme* C) *Mantıku't-Tayr*
D) *İskendernâme* E) *Sihâm-ı Kaza*

15. Aşağıdaki açıklamalardan hangisi ayrıca içinde verilen terimle uyuşmamaktadır?

- A) Bir kimseyi yermek amacıyla abartılı bir üslup kullanılarak yazılan şiirlere denir. (**Hicviye**)
B) Dört dizeden oluşan bu nazım şekli yalnızca Türk edebiyatında görülür. (**Tuyuğ**)
C) Ahenk sağlamak amacıyla bir gazelin her dizesine kısa bir dize eklenerek oluşturulan nazım şeklidir. (**Müstezat**)
D) Hemen hemen her kasidede yer alan bu bölümde şairler kendilerini ve şiirlerini mübalağalı bir şekilde överler. (**Fahriye**)
E) Her beytinin dizeleri kendi arasında kafiyeli olan bu nazım şekli, divan edebiyatının en uzun nazım şeklidir. (**Murabba**)

16. ----, Kanuni'ye sunduğu şiirlerle onun himayesini kazanmıştır. Padişahın ölümü üzerine edebiyatımızın en güzel mersiyelerinden birini yazmıştır. *Şairler sultanı* olarak tanınan şair, gazellerindeki güçlü ifade kudretine dikkati çeker.

Bu parçada boş bırakılan yere aşağıdakilerden hangisi getirilmelidir?

- A) Hayâlî B) Taşlıcalı Yahyâ
C) Fuzûlî D) Bâkî
E) Necâtî

17. Divan şiirinde "hikemî tarz"ın kurucusu kabul edilen şair, sosyal ve siyasal huzursuzlukların yaşandığı XVII. yüzyılda yetişmiştir. Gerek döneminin gerekse kendi mizacının etkisiyle, hikmet ve darbimesel ağırlıklı şiirler yazmıştır. Şiirlerinde duygu, hayal ve kelime oyunlarından çok, tecrübeli bir devlet adamının sosyal eleştirileri ve yol gösterici öğütleri yer alır.

Bu parçada söz edilen şair aşağıdakilerden hangisidir?

- A) Neşâtî
B) Şeyhülislam Yahyâ
C) Nefî
D) Nâilî
E) Nâbî

18. Aşağıdaki dizelerin hangisinde *Felâtnun Bey ile Râkım Efendi* adlı eserde de dile getirilen dönemin yaygın sosyal sorunu eleştirilmektedir?

- A) Ey vatan ver elini bir sıkayım!
Elimizden gidiyorsun adiyö...
Çeşm-i şefkat ile baktıkça sana
Beni mahzun ediyorsun adiyö.
- B) Yorgan döşek demez satar
Tiyatroda loca tutar
Gider evde yerde yatar
Şık beylerde olan hâlet
Kabul olunmaz rezalet
- C) Hür olmak ister isen olma cihanın
Zevkinde safasında gamında kederinde
Canan gide rindan dağıla mey ola rızan
Böyle gecenin hayr umulur mu seherinde
- D) En ummadığın keşfeder esrar-ı derunun
Sen herkesi kör âlemi serser mi sanırsın
Bir gün gelecek sen de perişan olacaksın
Ey gonca bu cemiyeti her-dem mi sanırsın
- E) Bir damla inciydi kirpiklerinde,
Aşkın ızdırabla dolu rüyası
Bir başka güzellik var kederinde
Bir başka âlem ki ruhunun yası,
Sessiz incileşir kirpiklerinde.

19. Servetifünun Dönemi'nin az tercih edilen türleri hakkında bir çalışma yapmak öteden beri aklımdaydı. Dönem ve sanatçılarına dair tüm çalışmalarda şiir, roman, öykü üçlüsünün mutlak hâkimiyetine karşı ben araştırmamı sadece öteki türler üzerine yaptım. Yine de Servetifünun şair ve yazarlarınca yazılan tüm şiir, roman ve öykü kitaplarını da okudum. Aslında Recaizâde'nin ve Abdülhak Hamit'in sağladığı hazırlığı, o edebî etkiyi dikkate almam ve onları okuyarak başlamam gerekiirdi ancak bunun için yeterli zamanım yoktu. Bir araştırmacı olarak kabul etmeliyim ki Servetifünun Dönemi'nin portresi, bu iki sanatçının eserlerini okumadığım ve değerlendiremediğim için biraz eksik kaldı. Sonuçta çalışmamda Servetifünun'un şimdiki değin pek çizilmemiş bir edebî türler portresini çizdim. Servetifünun'dan şiir, roman ve öyküyü çıkardığınızda geriye ne kalır sorusuna yanıt aradım.

Bu parçada söz edilen araştırmacı hakkında aşağıdakilerden hangisi söylenemez?

- A) *Rûbab-ı Şikeste* ve *Kırık Hayatlar*'ı çalışmasına katmamış fakat okumuştur.
- B) Tanzimat'ın II. dönemi ile Servetifünun arasında bir geçiş olduğunu düşünür.
- C) *Talim-i Edebiyat*, *Çok Bilen Çok Yanılır* ve *Sahra* adlı eserleri okumuştur.
- D) *Kırk Yıl*, *Saray ve Ötesi*, *Kavgalarım* adlı eserleri değerlendirmiştir.
- E) Hüseyin Cahit, çalışmasında yer verdiği sanatçılardandır.

20. Ahmet Haşim ve Orhan Veli'nin şiir anlayışlarına dair çalışma yapan bir öğrenci, iki şair arasında kurgusal bir karşılaşma tasarlar. Bu karşılaşmada iki şair, şiir üzerine hayali bir tartışmaya girer.

Aşağıdakilerden hangisi bu tartışmada geçebilecek bir diyalogdan alınmıştır?

- A) **A. Haşim:** Azim nazımdan ritim ve şekli atarsanız geriye bir şey kalmaz!
O. Veli: Anlam kalır, doğal bir söyleyiş kalır ki mirim, gerçek şiir de budur!
- B) **O. Veli:** Mana kadar müzikaliteye önem verseydiniz şiiriniz daha iyi olurdu!
A. Haşim: Şiirde yalınlık aradım ben; süs ve gösteriş değil efendim!
- C) **O. Veli:** Divan nazımının şekillerini, serbest müstezata kurban edemezsiniz!
A. Haşim: Halk şiirinin imkânları ve hece iyi bir şiir yaratmak için yeterlidir!
- D) **O. Veli:** Şiirimi parnasyen biçimcilikle değil sembollerle ördüm bendeniz!
A. Haşim: Saf şiirin peşinde koşarken şiir kuşunu öldürdünüz siz!
- E) **A. Haşim:** Muhterem, nazmı belirsizliğe ve anlaşılmağıza hapsettiniz!
O. Veli: Hayır efendim, söz dizimini değiştirirken şiiri yeniden icat ettik!

21. XIX. yüzyılın sonlarına doğru Türk şiiri millî kaygıların öne çıktığı yeni bir zeminde yol alır. Aynı süreçte ---- milliyetçi bir çıkış yaparak döneminin bireyci ve biçimci şiir anlayışına tarihî ve romantik bir alternatif geliştirir. Hemen sonrasında Genç Kalemler hareketi içerisinde şiir ve millî şuuru birleştiren, II. Meşrutiyet Dönemi boyunca egemen olacak biçim ve içerik anlayışının temellerini Türkçü bir düşünsel tutumla atan ---- kendini gösterir. Bu arada Servetifünun şiirinin öncülerinden biri olan ve parnasizmden etkilenerek yazdığı bireysel şiirlerin ardından sosyal konulara ilgi duyan ---- başlangıçtaki sanat anlayışından oldukça uzaklaşarak toplumsal faydacı bir çizgiye varır. Bu dönemde kendine özgü bireysel tutumuyla ortaya çıkan ---- dışındaki Fecriaticiler de millî zemine geçip toplumcu bir hassasiyetin ağır bastığı, şiirselliğin millî şuur ve kaygıların gerisinde kaldığı bir görüş benimser.

Bu parçada boş bırakılan yerlere aşağıdaki şairlerden hangisi getirilemez?

- A) Tevfik Fikret B) Mehmet Emin Yurdakul
C) Ziya Gökalp D) Mehmet Akif Ersoy
E) Ahmet Haşim

22. Beyazıt Havuzu'nun kenarındaki kanepelerden birine oturmuş, sizi bekliyorum. Yaşını almış bir adamın yirmi yaşındaki çocuk kederlerini, sevinçlerini yaşaması ne demektir, diye düşünüyorum: Belki bir geç olma hadisesi... Belki de bir çeşit hazları, kederleri, çocuklukları uzatma temayülü... Ama bu uzayan yaz, kışın gelmeyeceğine alamet değil. Kış müthiş olacak, kar yolları kapayacak, bembeyaz ovada ölümlük uzayıp gidecek... Sizi bekliyorum. Sizi göreceğim, içimde bir şey koşacak. Siz görmeden geçeceksiniz. Ben kederle sevinci duyup dalacağım istediğim âleme. Dünyayı yeniden kederlerle kuracağım. Sonra çarşılardan çarşılar, insan sesleri arasında, her şeyi sizinle kurulmuş bir şehirde dolaşacağım. Herkes geçti, siz geçmediniz. Yüzünüzü göremedim. Bayramım, çocukluk bayramım salıncaksız geçmiş gibi gözüme yaş doldu.

Bu parçayla ilgili aşağıdakilerden hangisi söylenemez?

- A) Öykü kişinin hayal kırıklığından bahsedildiği
- B) Anlatımda yer yer betimlemelere başvurulduğu
- C) Düşüncelerin, bilinç akışı tekniğiyle aktarıldığı
- D) Gerçekle hayalin iç içe geçtiği bir anlatıma sahip olduğu
- E) Durum hikâyesine özgü nitelikler taşıdığı

23. Aşağıdakilerden hangisi Garip şiirine örnek olarak gösterilemez?

- A) Deli eder insanı bu dünya;
Bu gece, bu yıldızlar, bu koku,
Bu tepeden tırnağa çiçek açmış ağaç.
- B) Bir misafirlige gitsem
Bana temiz bir yatak yapsalar
Her şeyi, adımlı bile unutup
Uyusam...
- C) Kuşçu amca!
Bizim kuşumuz da var,
Ağacımız da.
Sen bize bulut ver sade
Yüz paralık.
- D) Ona bir kitap vereceğim
Rahatını kaçırmak için
Bir öğrenegörsün aşkı
Ağacı o vakit seyredin.
- E) İkiz hayaletler gibi yürüdük
Puslu aydınlıkta o bahar günü
Gece, bir tepeden seyrettik, büyük
Yıldızların suya döküldüğünü.

24. ---- akımında yüreğimize kitap sayfalarından ulaşılmak istenir. Bize duyurulan her heyecanın eski, çok eski bir yazardan yapılan alıntıyla doğrulanması gerekiyor gibidir. ---- akımında ise doğrudan doğruya yüreğimize, yücelik duygumuza seslenilir. İşte aradaki büyük fark bence budur.

Bu parçada boş bırakılan yerlere sırasıyla aşağıdakilerden hangisi getirilmelidir?

- A) Klasisizm - Romantizm B) Realizm - Romantizm
- C) Realizm - Sembolizm D) Natüralizm - Sembolizm
- E) Klasisizm - Natüralizm

25. Aşağıdakilerden hangisi, uygarlığın kültürel etkileşimlerle geliştiğini gösteren örneklerden biri değildir?

- A) Sümerlere ait kanunların, Babilliler tarafından geliştirilmesi
- B) Anadolu'ya yazının Asur ticaret kolonileri tarafından getirilmesi
- C) Eski Yunan eserlerinin Arapçaya çevrilmesi
- D) Ateşin aynı dönemde dünyanın farklı yerlerinde bulunması
- E) Akdeniz'deki denizcilerin birbirlerinin haritalarından faydalanması

26. Oğuz Kağan altı oğlu ile birlikte dünyayı fethedip cihangir olduktan sonra ana yurduna döndü. Büyük bir kurultay topladı ve halka şölen verdi. Üç büyük oğlu "Bozoklar" sağda, üç küçük oğlu "Üçoklar" solda oturdu. Oğuz Kağan oğullarına şöyle seslendi: "Ey oğullarım, ben çok savaştım, artık çok yaşlandım. Düşmanlarımı ağlattım; dostlarımı sevindirdim." Daha sonra Oğuz Kağan yurdunu oğulları arasında taksim etti. Ok-yay münasebetine göre Üçokların Bozoklara bağlı olduğunu bildirdi. Töre ve birliğe bağlı kalmalarını vasiyet etti.

Oğuz Kağan Destanı'ndaki bu ifadelerle göre Oğuzlarla ilgili aşağıdakilerden hangisi söylenemez?

- A) İkili teşkilat yapısına sahip oldukları
- B) Önemli olayları kutladıkları
- C) Boyların yönetimde eşit hakka sahip olduğu
- D) Yerleşik kanun ve kuralları bulunduğu
- E) Etkili bir askerî teşkilat meydana getirdikleri

27. Medine şehri "Yesrib" olarak anılırken sonrasında bu şehre "Peygamber Şehri" anlamında "Medinetü'n-Nebi" denilmesinin nedeni aşağıdakilerden hangisidir?

- A) Hicret B) Cemel Vakası C) Hakem Olayı
- D) I. Akabe Biatı E) Kerbela Olayı

28. Büyük Selçuklu Devleti'nde hanedan üyeleri ve valilerin, hüküm sürdükleri bölgelerde kendilerine bağlı askerî birlikleri vardı.

Bu uygulama aşağıdakilerden hangisiyle ilişkilendirilemez?

- A) İktidar mücadeleleriyle
- B) Egemenlik anlayışıyla
- C) İktidar sistemiyle
- D) Atabeyliklerin oluşmasıyla
- E) Merkezi otoritenin güçlenmesiyle

29. Osmanlı Devleti'nin kuruluş sürecinin konu edildiği derste Mert Öğretmen, öğrencilerine aşağıdaki bilgileri verir:

- Çimpe Kalesi onun zamanında alınmıştır.
- "Gaziler Sultanı" unvanını kullanmıştır.
- Devletin ilk medresesini İznik'te yaptırmıştır.

Mert Öğretmen'in, hakkında bilgi verdiği Osmanlı padişahı aşağıdakilerden hangisidir?

- A) Orhan Bey B) I. Murat
- C) Yıldırım Bayezit D) Çelebi Mehmet
- E) II. Murat

30. XIX. yüzyılda Osmanlı Devleti'nde;

- I. Osmanlı Bankasının kurulması,
- II. Düyun-ı Umumiye Teşkilatının faaliyete geçmesi,
- III. kapitülasyonların genişletilerek devam etmesi

uygulamalarından hangilerinin Osmanlı ekonomisindeki yabancı etkisini gösterdiği savunulabilir?

- A) Yalnız I B) Yalnız II C) I ve III
D) II ve III E) I, II ve III

31. Mustafa Kemal Paşa, Birinci Dünya Savaşı başladığında aşağıdaki görevlerden hangisini yapmaktaydı?

- A) Hareket Ordusu Kurmay Başkanlığı
B) Dokuzuncu Ordu Müfettişliği
C) Sofya Ataşemiliterliği
D) Yıldırım Orduları Grup Komutanlığı
E) Anafartalar Grup Komutanlığı

32. Aşağıdakilerden hangisi Milli Mücadele Dönemi'nde Anadolu'daki milli hareketin, halkın desteğini almak amacıyla gerçekleştirdiği faaliyetlerden biri değildir?

- A) Hâkimiyet-i Milliye gazetesinin çıkarılması
B) Anadolu Ajansının faaliyete geçmesi
C) Sivas Kongresi'nin toplanması
D) İşgalleri protesto için mitingler düzenlenmesi
E) Kuvayı İnzibatiyenin oluşturulması

33. Millî Mücadele yıllarında 15. Kolordu Komutanı Kazım Karabekir Paşa, "Antlaşma şartı olarak Ankara'nın istediği gibi 2 bin tüfek, 3 batarya, 12 dağ topu, 40 makineli tüfek aldım. Doğu Cephesi'nin ilk armağanı olarak Batı Cephesi'ne ulaştırılmak üzere yola çıkardım." ifadelerini kullanmıştır.

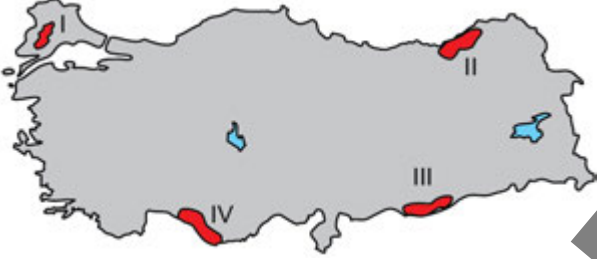
Kazım Karabekir Paşa'nın bahsettiği antlaşma aşağıdakilerden hangisidir?

- A) Ankara B) Gümrü C) Kars
D) Moskova E) Brest-Litovsk

34. Aşağıdakilerden hangisi 3 Mart 1924'te Erkân-ı Harbiye-i Umumiye Vekâletinin kaldırılarak yerine Erkân-ı Harbiye-i Umumiye Riyasetinin kurulmasının sonuçlarından biridir?

- A) Kuvvetler birliği ilkesinin hayata geçirilmesi
B) Azınlıklara askerlikle ilgili muafiyet getirilmesi
C) Takrir-i Sükûn Kanunu'nun çıkarılması
D) Ordunun gündelik siyaset dışında tutulması
E) Zorunlu askerlik uygulamasına geçilmesi

35. Genel olarak engebenin fazla olduğu alanlarda yağış, sıcaklık, nem gibi iklim elemanları kısa mesafelerde değişiklik gösterdiği için bu alanlarda engebenin az olduğu alanlara göre biyoçeşitliliğin daha zengin olması beklenir.



Haritada numaralandırılan alanların hangilerinde bu nedene bağlı olarak biyoçeşitliliğin daha zengin olduğu söylenebilir?

- A) I ve II B) I ve III C) II ve III
D) II ve IV E) III ve IV
36. Dünya ekonomisinde önemli bir yere sahip olan ve sermayenin küresel dolaşımını kontrol eden şehirler küresel bir etkiye sahiptir. Bunlar aynı zamanda mal, hizmet, bilgi ve kültür alanlarında küresel ölçekte birer üretim ve dağıtım merkezleridir.

Bu nitelikler aşağıdaki şehirlerin hangisinde daha azdır?

- A) Lizbon B) Paris C) New York
D) Tokyo E) Londra

37. K ülkesi nüfus artış hızını artırıcı, L ülkesi ise nüfus artış hızını azaltıcı politikalar izlemiştir. Her iki ülke de uzunca bir dönem uyguladıkları bu politikalarda başarıya ulaşmıştır.

Bu ülkelerle ilgili olarak,

- I. K ülkesinde genç nüfus oranı artmıştır.
II. K ülkesinde yaşlı nüfus miktarı azalmıştır.
III. L ülkesinde doğum oranı azalmıştır.
IV. L ülkesinin genç nüfus oranı artmıştır.

yargılarından hangileri doğrudur?

- A) I ve II B) I ve III C) II ve III
D) II ve IV E) III ve IV

38. Türkiye'nin önemli kalkınma projelerinden biri de Doğu Karadeniz Projesi'dir. Bu projenin hayata geçmesiyle bölgede birçok değişimin olması beklenmektedir.

Aşağıdakilerden hangisi bu projeye bağlı olarak beklenen değişimlerden biri değildir?

- A) Başta yayla alanlarında olmak üzere turizm faaliyetlerinin gelişmesi
B) Ulaşım hizmetlerinde daha az sorunun yaşanması
C) Yer altı zenginliği rezervlerinin korunması
D) Balıkçılık faaliyetlerinin sürdürülebilirliğinin sağlanması
E) Orman varlığının daha etkili ve verimli kullanımının sağlanması

39. Bazı ülkeler; siyasi, askerî ve ekonomik açıdan iş birliği yaparak kimi örgütlerin kurulmasını sağlamışlardır. Bu örgütlerin bir kısmının ortak amacı; üye ülkelerin ticari çıkarlarını korumak, ekonomik, bilimsel ve teknolojik iş birliği yapmaktır.

Bu amaçlar doğrultusunda 1992 yılında İstanbul'da kurulan örgüt aşağıdakilerden hangisidir?

- A) İslam İşbirliği Teşkilatı (İİT)
- B) Gelişen Sekiz Ülke (D-8)
- C) Ekonomik İşbirliği ve Kalkınma Örgütü (OECD)
- D) Karadeniz Ekonomik İşbirliği Teşkilatı (KEİ)
- E) Uluslararası Çalışma Örgütü (ILO)

40. İnsan ihtiyaçları doğrultusunda kullanılan doğal kaynakların miktarı ve çeşidi sürekli artmaktadır. Bu kaynakların kullanılması sonucu ortaya çıkan atıkların bir kısmının geri dönüştürülmesi çeşitli yararlar sağlamaktadır.

Aşağıdakilerden hangisi bu yararlardan biri değildir?

- A) Çevreye verilen zararın azaltılması
- B) Doğal kaynak kullanımının azaltılması
- C) Enerji tasarrufunun sağlanması
- D) Ülke ekonomisine olan katkının artması
- E) Atık depolama alanlarının sayıca artması

ÖSYM

Bu soruların telif hakları ÖSYM'ye aittir. Sorular ÖSYM'nin yazılı izni olmaksızın hiçbir kişi, kurum veya kuruluş tarafından kullanılamaz.

1. Bu testte sırasıyla, Tarih-2 (1-11), Coğrafya-2 (12-22), Felsefe Grubu (23-34), Din Kültürü ve Ahlak Bilgisi (35-40), Din Kültürü ve Ahlak Bilgisi dersini yasal olarak almak zorunda olmayan veya farklı müfredat ile alanlar için Felsefe Grubu (41-46) alanlarına ait toplam 46 soru vardır.

2. Cevaplarınızı, cevap kâğıdının Sosyal Bilimler-2 Testi için ayrılan kısmına işaretleyiniz.

1. "Tarih yazmak, tarih yapmak kadar önemlidir. Yazan yapana sadık kalmazsa değişmeyen hakikat, insanlığı şaşırtacak bir mahiyet alır."

Mustafa Kemal, bu sözüyle tarihinin aşağıdaki niteliklerinden hangisine işaret etmemiştir?

- A) Öznellik
B) Bilimsellik
C) Tarafsızlık
D) Belgelere dayanma
E) Nesnellik

2. Kök Türk Devleti'nin yıkılmasının ardından Karadeniz'in kuzeyi ve Kafkaslar Bölgesi'nde kurulan ve yönetici zümresi Musevi olan Türk devleti, aşağıdakilerden hangisidir?

- A) Avar
B) İkinci Kök Türk
C) Bulgar
D) Uygur
E) Hazar

3. Darüşşifalar konusunu işleyecek olan Öykü Öğretmen, öğrencilerine "Darüşşifa deyince aklınıza neler geliyor?" sorusunu yöneltmiştir. Öğrencilerden bazıları aşağıdaki cevapları vermiştir.

- I. Hükümdarlar için hazırlanmış anıt mezarlardır.
II. Tıp eğitimi veren kurumlardır.
III. Hastaların müzik ve suyla tedavi edildiği yerlerdir.
IV. Bir caminin etrafında yer alan medrese, kütüphane, hastane, hamam, türbe gibi yapılar topluluğudur.

Öğrencilerin verdiği bu cevaplardan hangileri doğrudur?

- A) Yalnız I
B) Yalnız IV
C) I ve II
D) II ve III
E) III ve IV

4. Aşağıdakilerden hangisi Osmanlı toprak rejiminin özelliklerinden biri **değildir**?

- A) Toprak sipahi tarafından ekip biçilir.
B) Timar sisteminin esasını teşkil etmektedir.
C) Toprağın mülkiyeti devlete aittir.
D) Toprak sebepsiz yere boş bırakılmaz.
E) Hem toprak hem ürün üzerinden vergi ödenir.

5. Aşağıdakilerden hangisi XVIII. yüzyılda Avrupa'nın genel durumunu yansıtan gelişmelerden biri **değildir**?

- A) Veraset savaşlarının yaşanması
B) Ulus devlet düşüncesinin temellerinin atılması
C) Feodalitenin hâkim duruma gelmesi
D) Merkantilist ekonomi politikasının uygulanması
E) Mutlakiyete dayalı yönetim anlayışının hâkim olması

6. III. Selim Dönemi'nde İngiltere'den başlayarak Avrupa ülkelerinde daimi elçilikler açılmıştır.

Osmanlı Devleti'nin bu uygulamayla;

- I. Avrupa'da İslamiyeti yaymak,
II. diplomatik ilişkileri sağlıklı yürütmek,
III. Avrupa'daki gelişmeleri yakından takip etmek

amaçlarından hangilerini gözetttiği savunulabilir?

- A) Yalnız I
B) Yalnız III
C) I ve II
D) II ve III
E) I, II ve III

7. XIX. yüzyılda Osmanlı Devleti'nde uygulanan "millet sistemi" aşağıdaki unsurlardan hangisine dayanır?

- A) Coğrafi mekân B) Ekonomik durum
C) Sosyal statü D) Dil
E) Din

8. Mustafa Kemal Paşa, 19 Kasım 1918 tarihinde Vakıf gazetesine verdiği demeçte; "Millet ve memleketimizin pek muhtaç olduğu sulhü kararlaştırarak hükümetin, Meclisi Mebusanımıza dayanması kati bir zorunluluktur." demiştir.

Mustafa Kemal Paşa'nın bu demeçle aşağıdakilerden hangisini amaçladığı söylenebilir?

- A) Saltanat Şûrası'nın toplanmasını
B) Hükümetin imzalayacağı antlaşmanın her durumda desteklenmesini
C) Hükümetin antlaşma için meclisten yetki alması gerektiğini
D) Antlaşmanın Wilson İlkeleri'ne göre düzenlenmesini
E) Âyan Meclisinin daha aktif bir politika izlemesini

9. Aşağıdaki haberlerden hangisinin, Hâkimiyet-i Milliye gazetesinde yer alması beklenemez?

- A) Bugün kutlu bir gün, Büyük Millet Meclisi açıldı!
B) Rauf Bey dün Mondros Mütarekesi'ni imzaladı.
C) Yüreğimiz yanıyor, İstanbul İtilaf Devletleri tarafından işgal edildi!
D) Yunan kuvvetleri İnönü önlere geri püskürtüldü!
E) Sevr Antlaşması, Büyük Millet Meclisinde reddedildi.

10. Bir tarih öğretmeni, Batı Cephesi'ndeki savaşları anlatırken şu bilgiyi vermiştir: "Yunanların harekete geçtiği sırada TBMM Hükümeti bir yandan Pontus çetelerinin saldırıları diğer yandan Koçgiri Aşireti'nin isyanı ile uğraşmak zorundaydı."

Öğretmenin, hakkında bilgi verdiği savaş aşağıdakilerden hangisidir?

- A) Birinci İnönü B) İkinci İnönü
C) Eskişehir-Kütahya D) Gediz
E) Sakarya

11. Atatürk İlkeleri, Atatürkçü düşünce sisteminin esaslarını belirlemek ve hayata geçirmek için oluşturulmuştur. Türk inkılabı ise Atatürk İlkeleri'nin uygulamaya dönüşmüş şeklidir.

Buna göre, aşağıdaki ilke ve inkılap eşleştirmelerinden hangisi yanlıştır?

- A) Cumhuriyetçilik - Saltanatın kaldırılması
B) Halkçılık - Soyadı Kanunu'nun kabul edilmesi
C) Milliyetçilik - Takrir-i Sükûn Kanunu'nun çıkarılması
D) Laiklik - Tekke, zaviye ve türbelerin kapatılması
E) Devletçilik - Birinci Beş Yıllık Sanayi Planı'nın uygulanması

12. Denizel ve karasal olmak üzere iki bölüme ayrılan su ekosistemleri biyoçeşitlilik açısından dünyanın önemli alanlarını oluştururlar. Bu ekosistemlerde; suyun fiziksel ve kimyasal özellikleri, durgun veya hareketli olması, sıcaklığı, derinliği, ışık ve besin madde miktarı gibi faktörler biyoçeşitlilik üzerinde önemli bir etkiye sahiptir.

Bu ekosistemlerdeki biyoçeşitlilikle ilgili aşağıdakilerden hangisi doğrudur?

- A) Kıyılarda karalardan taşınan besin maddelerinin açık denizlerden daha fazla olması canlı çeşitliliğini artırır.
- B) Okyanus ve denizlerde 500 metreden daha derin ortamlarda canlı çeşitliliği daha fazladır.
- C) Akarsuların yukarı çığırlarında yatak eğiminin fazla, akış hızının yüksek ve suların soğuk olması biyoçeşitliliği artırır.
- D) Akarsuların okyanus veya denize döküldüğü ağız kısmı sıcaklık ve tuzluluk yönünden elverişsiz olduğu için biyoçeşitlilik düşüktür.
- E) Kapalı havzalarda bulunan göllerde su sıcaklığının ve seviyesinin mevsimden mevsime değişmesi biyoçeşitliliği artırır.

13. Herhangi bir yerde mevsim normallerinin üzerindeki yüksek sıcaklıkların belirli bir süre yaşanması, başta insanlar olmak üzere tüm canlıları etkilemektedir.

Aşağıdakilerden hangisi bu durumun ortaya çıkardığı bir olumsuzluk değildir?

- A) Tarımda verimliliğin azalması
- B) Orman yangınlarının artması
- C) Evsel enerji tüketiminin artması
- D) Barajlardaki su seviyesinin düşmesi
- E) Nöbetleşe ekim alanlarının azalması

14. I. Ulaşım sistemleri
II. Temiz su kaynakları
III. Sanayi kuruluşları
IV. Tarım toprakları

Küresel iklim değişikliğinin olumsuz etkileri yukarıdakilerden hangileri üzerinde daha fazla görülmektedir?

- A) I ve II
B) I ve III
C) II ve III
D) II ve IV
E) III ve IV

15. I. Dağlık ve eğimli alanların fazlalığı tarımsal etkinlikleri kısıtlamaktadır.
II. Topraktaki organik ve mineral madde miktarı her yerde yeterli değildir.
III. İç kesimlerdeki geniş düzlükler önemli tahıl üretim alanlarını oluşturur.
IV. Nadaşa bırakılan alanlar giderek azalmaktadır.

Yukarıdakilerden hangileri Türkiye’de yer şekillerinin bitkisel üretim üzerindeki etkisini göstermektedir?

- A) I ve II
B) I ve III
C) II ve III
D) II ve IV
E) III ve IV

16. Türkiye’de; doğum, ölüm ve göçler sonucu değişen nüfus özelliklerine bağlı olarak belirli dönemlerde farklı nitelikte nüfus politikaları uygulanmıştır. Bunlardan biri de 1923 ile 1963 arası dönem olup bu dönemde nüfusun artırılmasına yönelik politikalar izlenmiştir.

Aşağıdakilerden hangisi bu dönemde uygulanan nüfus politikalarının gerekçelerinden biridir?

- A) Doğal kaynakları işleyebilecek nüfusun az olması
- B) İstihdam sorunları sebebiyle işsizliğin artması
- C) Çok çocuklu ailelerin sayıca fazla olması
- D) Nüfusa bağlı yatırımların artması ve tasarrufların azalması
- E) Makineleşme sonucu tarım alanında iş gücüne duyulan ihtiyacın azalması

17. Aşağıdaki haritada bazı alanlar numaralandırılarak gösterilmiştir.



Taş kömürünün sanayide enerji kaynağı olarak kullanımı, ilk olarak bu alanların hangisinde başlamıştır?

- A) I B) II C) III D) IV E) V

18. Sanayileşme sürecine bağlı olarak büyüyen şehirlerde;

- I. şehirlere olan göçün hızlanması,
II. tarımsal üretimin artması,
III. ulaşım hizmetlerine talebin artması

durumlarından hangileri ortak özellik gösterir?

- A) Yalnız I B) Yalnız II C) Yalnız III
D) I ve II E) I ve III

19. Günümüzde teknolojik gelişmeler, refah düzeyinin artması, ulaşım sektöründeki gelişmeler gibi durumlar turizme katılan insan sayısını artırarak bu sektörün gelişmesini sağlamıştır. Uluslararası turizmin gelişmesi ülkeler arası etkileşimde önemli bir role sahip olduğu gibi, olumsuz bazı sonuçlar da ortaya çıkarabilmektedir.

Aşağıdakilerden hangisi bu olumsuz sonuçlardan biri değildir?

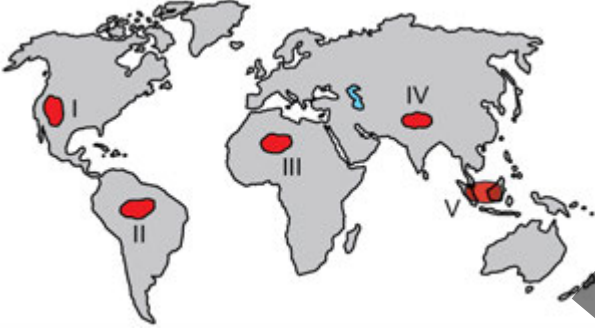
- A) Geleneksel yaşam biçiminde değişim
B) Yerel dilin yapısında bozulma
C) Konukseverliğin yerini ekonomik çıkarların alması
D) Doğal ve kültürel koruma alanlarının sayısının artması
E) Turizm faaliyetlerinin doğal dengede tahribat oluşturması

20. Ekonomik açıdan yeterince kalkınmamış bazı ülkeler çeşitli ham madde kaynaklarına sahip olmalarına rağmen bunları işleyerek mamul maddeye dönüştürecek sanayileri yetersiz olduğu için, ihtiyaç duydukları işlenmiş ürünleri diğer ülkelerden satın alırlar.

Kalkınmamış bazı ülkelerde görülen bu durum üzerinde, aşağıdakilerden hangisinin etkisi daha fazladır?

- A) Doğal kaynaklarının yetersiz olması
B) Sahip oldukları nüfus miktarının düşük olması
C) Teknoloji ve nitelikli insan gücünün yetersiz olması
D) Ülke yüzölçümlerinin küçük olması
E) Tarım topraklarının yetersiz olması

21. Dünya ormanlarındaki aşırı tahribat orman alanlarının daralmasına ve buna bağlı olarak çeşitli çevre sorunlarının ortaya çıkmasına neden olmaktadır.



Bu durum, haritada numaralandırılan alanların hangilerinde **daha fazla** görülmektedir?

- A) I ve II B) I ve III C) II ve V
D) III ve IV E) IV ve V

22. Enerji üretiminin sağlandığı doğal kaynaklardan bir bölümü belirli bir rezerve sahip olup bu kaynakların zaman içerisinde tükeneceği öngörülmektedir.

Aşağıdaki enerji kaynaklarından hangisi bu öngörü içerisinde **değerlendirilemez**?

- A) Petrol B) Doğal gaz C) Taş kömürü
D) Jeotermal E) Linyit

23. Hareket ediyormuş gibi görünen bir aslan heykeline bakan Ayşe, hayranlıkla "Ne güzel! Kim yaptı acaba bunu?" der. Sonra merakı daha da artarak "Heykeltraş hareket eden bir aslan biçimini buna nasıl verdi?", "Peki bunu yapmaktaki amacı neydi?", "Bu heykeli yaparken hangi malzemeyi kullandı?" sorularını peşpeşe sorar. Orada bulunan heykeltraş, Ayşe'nin yanına yaklaşır "Gördüğüm kadarıyla Aristoteles'in varlık anlayışını gayet iyi kavramışsınız." der. Ayşe'nin hayranlığına bir de şaşkınlık ifadesi eklenir.

Bu parçada heykeltraş, Ayşe'nin sorularından hareketle Aristoteles'in hangi düşüncesine gönderme yapmaktadır?

- A) Felsefenin başlangıcının hayret olduğu görüşüne
B) Davranışlarda orta olma ilkesine
C) Madde-form öğretisine
D) Bilginin sanıdan (doğa) farklı olduğu görüşüne
E) Dört neden görüşüne

24. Mutluluk erdemli olmanın bir ödülü değil erdemın ta kendisidir. Dünyevi isteklerimizi bastırdığımız için mutluluktan haz almamız; tersine, ondan haz aldığımız için dünyevi isteklerimizi bastırabiliriz.

Spinoza'nın *Etika* adlı eserinden alınan bu parçadan aşağıdaki yargıların hangisine ulaşılabilir?

- A) Erdemli olma çabasının hedefi mutluluktur.
B) Erdemli olmak için hazların bastırılması gerekir.
C) Erdemli olmak kendi başına mutluluktur.
D) Mutluluktan haz almak olanaksızdır.
E) Mutluluk hak edilen bir şeydir.

25. Nietzsche'nin "güç istenci" anlayışı oldukça farklı şekillerde yorumlanmış hatta bu yorumların bazıları onu suçlayacak bir noktaya dahi ulaşmıştır. "Güç istenci"nin, insanın diğer insanlar üzerinde egemenlik kurma isteği olarak yorumlanışına karşı Nietzsche'nin çağdaş yorumcularından Deleuze, kavrama açıklık getirmek amacıyla şunları söyler: "İstencin gücü istemesi, gücü bir erek olarak arzulaması ve ardı sıra gitmesi demek olmadığı gibi, gücün, istencin dürtüsü olması demek de değil. Gücün iradesi özünde yaratıcı ve donandırıcıdır: Bir şeye iç geçirmez, aramaz, arzulamaz ve özellikle de gücü arzulamaz. Verir: Güç, istençte 'verici erdem' olarak vardır; istenç, güç vasıtasıyla bizzat anlam ve değer donatıcıdır."

Buna göre "güç istenci" için aşağıdakilerden hangisi söylenebilir?

- A) İnsanın ihtiyaçları tarafından belirlenir.
- B) İnsanın yeni değerler oluşturabilmesini sağlar.
- C) İnsanların birbirleriyle mücadelesinin ürünüdür.
- D) Zaman içerisinde egemenlik kurar.
- E) İnsanların mutluluğunu amaçlar.

26. I. Bireyin çocukluğunda yaşadığı travmatik olayların, yetişkinliğinde yaşadığı fobilerle ilişkisi var mıdır?
 II. Bir iş yerinde çalışanlar arasındaki çatışmalar, çalışanların iş yerine bağlılıklarını olumsuz yönde etkiler mi?
 III. Yeni doğmuş maymunların bir süre fiziksel temastan yoksun kalması maymunların yetişkinlikteki tepkilerini etkiler mi?

Yukarıdaki sorulardan hangileri, psikoloji biliminin konusu kapsamındadır?

- A) Yalnız I
- B) Yalnız II
- C) I ve III
- D) II ve III
- E) I, II ve III

27. **Duygularla ilgili aşağıdaki ifadelerden hangisi yanlıştır?**

- A) Bireyin engellendiği durumlar onda çoğu zaman öfke duygusuna yol açar. Öfke ise saldırgan davranışa neden olabilir.
- B) Kaygının aksine korkunun nesnesi yoktur. Birey kendisini korkutanın ne olduğunu somut olarak hiçbir zaman bilemez.
- C) Korkuların bir kısmı doğuştan var olsalar da bazı korkular bireyin deneyimleri sonucunda sonradan edinilir.
- D) Bireyin duyduğu hazzın kaynağı farklı gelişim dönemleri boyunca değişkenlik gösterebilir.
- E) Bazı fizyolojik tepkiler birden çok duygu türünde ortak olarak görülür. Örneğin kalp atım hızı artan bireyin öfkelenmişinden emin olamayız.

28. Sosyal psikologların ilgilendikleri alanlar arasında şemalar, tutumlar, ön yargılar, yüklemeler gibi insanların sosyal bilişlerine yönelik çeşitli konular bulunmaktadır.

Yüklemeler konusunda çalışmalar yürüten bir psikolog, temel olarak aşağıdakilerden hangisine odaklanmaktadır?

- A) İnsanların, davranışlarının nedenlerine yönelik düşüncelerine
- B) İnsanların başkalarına hangi koşullarda yardım edeceğine
- C) Sosyal uyarıcıların ne olduğuna yönelik kalıplaşmış bilişlere
- D) Bir grubun tüm üyeleri tarafından paylaşıldığı düşünülen özelliklerine
- E) Kişilere veya gruplara yönelik olumlu ve olumsuz duygulara

29. Benim engelim konuşamamam, engelliliğim ise benimle nasıl iletişim kuracağını öğrenmek için insanların zaman ayıramaması ya da buna zahmet etmemesi gerçektir. Benim engelim yürüyememem, engelliliğim ise belediyenin engelliye uygun kaldırım ve yol yapmaması, toplu taşıma araçlarını engellilerin binış ve inişine uygun hâle getirmemesidir.

Bu parçadan aşağıdaki yargıların hangisine ulaşılabilir?

- A) Engellilere her alanda pozitif ayrımcılık uygulanmalıdır.
 B) Engellilerin temel sorunu sosyal engellemelerdir.
 C) Sadece engellilerin faydalanabileceği özel otobüsler üretilmelidir.
 D) Engelliler arasında işaret dili yaygınlaştırılmalıdır.
 E) Engellilerin sağlık hizmetleri ücretsiz olmalıdır.

30. Toplumsal kurallar üzerine temellenen hukuk kurallarının, ahlak kurallarının nesnel boyutunu oluşturduğu söylenebilir. Hırsızlık ve yalan söyleme gibi davranışlar hukuk açısından olduğu gibi ahlak, din ve gelenekler açısından da yaptırımla karşılaşır. Hukuk kurallarının ayırt edici özelliği ise yaptırımlarının niteliğidir. Ahlak kurallarından farklı olarak, hukuk içinde tanımlanmış kuralların ihlali durumunda, ihlal eden kişiye yönelik hak yoksunluğu, hapis cezası veya tazminat ödeme gibi yine hukuk içinde tanımlanmış maddi yaptırımlar uygulanır.

Bu parçadan aşağıdaki yargıların hangisine ulaşılabilir?

- A) Değerler ve normlar toplumsal yaşamın vazgeçilmez unsurlarıdır.
 B) Hukuk kuralları evrensel ilkelere uygun olduğunda varlığını sürdürebilir.
 C) Ahlak ve hukuk kurallarının içerikleri, süreç içinde birbirinden farklılaşmıştır.
 D) Hukuk kuralları değerler ve normlardan bağımsız değildir ancak resmî yaptırımlara sahiptir.
 E) Toplumsal ilişkilerde ahlak kurallarının etkisi hukuk kurallarının önüne geçmiştir.

31. Bazı etkileşim tiplerine ait örnekler şu şekildedir:

- Fizik dersinde Eylül ve arkadaşlarının birlikte bir proje üzerinde çalışması
- Derslerine gerekli özeni göstermeyen Ela'ya ailesinin bilgisayar kullanmasını yasaklaması
- En çok kitap okuyana hediye verileceğini öğrenen Ada'nın her fırsatta kitap okuması
- Köyden kente göç eden bir ailenin kent yaşamına adapte olmaya çalışması

Buna göre aşağıdaki etkileşim tiplerinden hangisine örnek verilmemiştir?

- A) Rekabet B) Mübadele C) İş birliği
 D) Uyum E) Baskı

32. Theseus'un Truvalılara karşı zafer kazandığı gemisi, zaferi onurlandırmak için limanda ziyarete açılır. Fakat zamanla geminin parçaları eskimeye başlar. Eskiye her bir parça yenisıyla değiştirilir. Yıllar içinde görülür ki geminin tüm parçaları değiştirilmiştir. Bu duruma üzülen görevliler depoda saklanan eski parçaları birleştirerek Theseus'un gemisini tekrar oluştururlar. Limanda şimdi iki gemi vardır: Tümüyle yeni parçalardan oluşmuş gemi ve eski parçaların yeniden birleştirilmesinden oluşmuş gemi. Bu durumda Theseus'un Truvalılara karşı zafer kazanan gemisi hangi gemidir? Yeni parçalardan oluşmuş gemi mi, depodaki eski parçalardan oluşturulmuş gemi mi, her ikisi de mi yoksa hiçbiri mi?

Bu parçada aşağıdaki ilkelerden hangisi tartışılmaktadır?

- A) Çelişmezlik
 B) Üçüncü hâlin imkânsızlığı
 C) Yeter - sebep
 D) Özdeşlik
 E) Nedensellik

33. Mantık disipliniyle ilgili,

- I. Tartışılan konu üzerinde ortaya konan bilginin doğru olup olmadığını denetler.
- II. Tartışılan konuya ilişkin kavramların tanımlarına uygun kullanılıp kullanılmadığını denetler.
- III. Tartışılan konuyla ilgili ortaya konan önermeler arası çıkarım ilişkilerini denetler.

Yargılarından hangileri söylenebilir?

- A) Yalnız I B) Yalnız II C) Yalnız III
D) I ve II E) I ve III

34. Aşağıdakilerden hangisi klasik mantıkta bileşik önerme olarak kabul edilemez?

- A) Ali gelirse tüm aile çok sevinir.
B) Ali ya bugün ya da yarın gelecek.
C) Ali pilotluk sınavını kazandı.
D) Ali hem hırslı bir insandır hem de çok çalışır.
E) Ali insanları sevdiği kadar onlara saygı da gösterir.

35.-40. soruları Din Kültürü ve Ahlak Bilgisi dersini yasal olarak almak zorunda olanlar ve İmam Hatip Okulları öğrencileri/mezunları cevaplayacaktır.

35. “Eğer yerde ve gökte Allah’tan başka ilahlar bulunsaydı yer ve gök, (bunların düzeni) kesinlikle bozulup gümüşti. Demek ki arşın Rabb’i olan Allah, onların yakıştırdıkları sıfatlardan uzaktır.” (Enbiya, 21:22)

Bu ayette vurgulanan husus aşağıdakilerden hangisidir?

- A) Allah’ın, yaratılmış hiçbir varlığa benzemediği
B) Âlemde birden fazla tanrı olmasının imkânsızlığı
C) Kâinattaki düzenin kıyamete kadar süreceği
D) Allah’ın sadece olumlu sıfatlarla nitelenebileceği
E) Allah ile kul arasında aracılardan olamayacağı

36. Kur’an-ı Kerim’de; Müslümanın her türlü aşırıktan uzak, ölçülü, dengeli bir yol, inanç ve yaşam biçimini benimsemesi gerektiği vurgulanmaktadır. Hz. Muhammed zamanında yaşanan bir olay da bu duruma örnek verilebilir: Sahabelerden birinin; çok sevap kazanmak için sürekli namaz kıldığı, bir diğerinin ise sürekli oruç tutmak üzere yemin ettiği bilgisi Hz. Muhammed’e ulaşır. O, bu durumdan hiç memnun olmaz ve söz konusu sahabelerin yanına giderek “Ben Allah’tan en çok korkunuzum. Ama ben bazen namaz kılar bazen dinlenirim, bazen oruç tutar bazen de yerim.” der ve onların da aşırıya gitmekten uzak durmalarını ister.

Bu parçada Hz. Muhammed’in eleştirdiği tutum aşağıdaki kavramlardan hangisiyle ifade edilir?

- A) Fitne B) Haset C) İfrat
D) İnkâr E) Taassup

37. “Andolsun, Allah’ın Resulünde sizin için; Allah’a ve ahiret gününe kavuşmayı uman, Allah’ı çok zikreden kimseler için güzel bir örnek vardır.” (Ahzab, 33:21) ayetinde, Hz. Muhammed’in dikkat çekilen yönü aşağıdakilerden hangisidir?

- A) Temsil B) Tebyin C) Tevekkül
D) Teşri E) Tefekkür

38. Sınır boylarında İslam’ın ilk dönemlerinden itibaren güvenliği tesis etmek ve yeni fetihlere hazırlık yapmak amacıyla saldırılara karşı korunaklı yapılar inşa edilmiştir. Buralara savaş için gerekli teçhizat ve belli sayıda asker yerleştirilmiştir. Sınır boylarında inşa edilen bu yapılar sınırların genişlemesiyle birlikte iç bölgelerde kalmış, bunların bir kısmı kervansaray olarak hizmet vermiş, birçoğu da tekke ve zaviyeye dönüşerek ilim ve zikir yapılan merkezler hâline gelmiştir. Selçuklulardan itibaren Anadolu ve Balkanlar’a da yayılan bu yapılar sayesinde İslam’ın yayılması hız kazanmıştır.

Bu parçada bahsedilen kurum aşağıdakilerden hangisidir?

- A) Dergâh B) Suffe C) Ribat
D) İmarethane E) Külliye

39. İslam kültür ve medeniyetinin gelişip zenginleşmesinde çeviri faaliyetlerinin önemli payı olmuştur. Bu faaliyetlerin sistemli bir şekilde yürütülmesi için Abbasiler Dönemi'nde ciddi adımlar atılmış ve Bağdat'ta bir merkez kurulmuştur. Burada çeşitli dillerde kaleme alınmış pek çok eserin çevirisi yapılarak zengin bir kütüphane oluşturulmuştur. İlmî tartışmaların da yapıldığı bu merkez, Orta Çağ'da ilimler akademisi niteliğinde hizmet vermiştir.

Bu parçada bahsedilen kurum aşağıdakilerden hangisidir?

- A) Nizamiye Medresesi B) Daru'l-hadis
C) Daru'l-kurra D) Rasathane
E) Beytü'l-hikme

40. XX. yüzyıldan itibaren daha çok Batı toplumlarında ortaya çıkan ve Türkiye'de "Milenyum Tarikatları", "Kıyamet Tarikatları" gibi isimlerle anılan yeni dinî hareketlerle ilgili olarak aşağıdakilerden hangisi söylenemez?

- A) Bir kurtarıcının toplumu ıslah edeceği ve böylece geleceğin daha iyi olacağına dair inançları vardır.
B) Grup üyelerinin uymak zorunda olduğu birtakım kurallar söz konusudur.
C) Hızlı modernleşen ve geleneksel değerlerinden uzaklaşan toplumlarda daha yaygın görülür.
D) Grup üyeleri, hiyerarşik yapıdan uzaktır ve eşit haklara sahiptir.
E) Yeni üye kazanabilmek için misyoner faaliyetlere önem verirler.

41.-46. soruları Din Kültürü ve Ahlak Bilgisi dersini yasal olarak almak zorunda olmayan veya farklı müfredat ile alanlar cevaplayacaktır.

41. Sokrates'e göre insanlar doğaları gereği mutlu olmayı ister. Dünyada insanı mutlu kılan ne varsa o şey özce iyi bir şey olduğuna göre insanların mutsuzluğa neden olan kötüyü istemeleri olanaksızdır. Buna karşın insanların sık sık kötü, zararlı ve değersiz bir şeyin peşine düştükleri olur ancak bu durum yalnızca onların bilgisizliklerinden kaynaklanmaktadır. Yani insan kötü bir eylemde bulundursa o eylemin iyi olduğunu zannettiği için yapmıştır.

Bu parçadan Sokrates'in ahlak anlayışıyla ilgili aşağıdaki yargıların hangisine ulaşılabılır?

- A) Ahlakî davranışlar, edinilen alışkanlıkların ürünüdür.
B) Bilgi insanın ahlaklı ve erdemli olmasını sağlar.
C) Ahlakî doğrular toplumsal uzlaşıyla belirlenir.
D) Ahlak doğuştan gelen bir yetidir ve eğitimle kazanılamaz.
E) Ahlakî doğrulara sahip olmadan da bilgi sahibi olunabilir.

42. Bilimsel devrim dönemlerinde, olağan bilimsel gelenek değiştiği zaman, bilim insanı çevresini algılamayı yeni baştan öğrenmek zorundadır yani tanıdığı koşullar içinde yeni kalıplar görmeyi öğrenmesi gerekmektedir. Bunu yaptıktan sonra araştırma dünyası birçok noktada eskiden yaşadığı dünyayla bağdaşmayan ölçüler taşıyacaktır. Farklı paradigmalardan içinde gelişen ekollerin her zaman birbirlerine biraz ters düşen amaçlar benimsemelerinin bir başka nedeni de budur.

Thomas Kuhn'un bu parçada öne sürdüğü bilim anlayışının temel savı aşağıdakilerden hangisidir?

- A) Bilim, paradigmalardan değişmesi yoluyla sıçramalar ve kopuşlar sergiler.
- B) Bilim, ilk teoriden son teoriye kadar paradigmatik devamlılık sergiler.
- C) Bilim, burada ve şimdi gerçekleştirilen fakat tarihsel süreklilik taşıyan bir etkinliktir.
- D) Bilim, olgular üzerinde yapılan deney ve gözlemlerle birikimsel olarak ilerler.
- E) Bilim, bilim insanlarının çalışmaları sonucunda ortaya çıkan ürünlerin paradigmatik bütünüdür.

43. Bir araştırmacı, travmatik anıları hatırlamanın kaygı düzeyi üzerindeki etkisini incelemek ister. Bu amaçla düzenlediği araştırmada, katılımcılara "Şimdi travmatik bir anınızı düşünmenizi istiyorum." yönergesini verir. Katılımcılardan biri geçmişte yaşadığı travmatik bir anı düşünürken ağlamaya başlar ve araştırmacıya kendini çok kötü hissettiği için çalışmanın bu kısmını atlamak istediğini söyler. Araştırmacı, katılımcıya tüm kısımları eksiksiz tamamlaması gerektiğini bildirir.

Bu durumda araştırmacı;

- I. katılımcının araştırma sırasında yaşayabileceği risklerin azaltılması,
- II. katılımcının verdiği cevapların gizliliğinin sağlanması,
- III. katılımcının araştırmaya özgür iradesiyle devam etmesi

etik ilkelerinden hangilerini ihlal etmiştir?

- A) Yalnız I B) Yalnız II C) I ve III
- D) II ve III E) I, II ve III

44. Kast sistemi, bireylerin toplumsal konumunun yaşam boyu belirli olduğu bir toplumsal düzendir. Bu sistemde her birey ailesinin ait olduğu kastın içinde doğar ve yaşamı boyunca da bu kastta kalır. Bundan dolayı kast toplumlarında, kesin olarak belirlenmiş olan farklı toplumsal seviyeler birbirine kapalıdır.

Bu parçadan kast sistemiyle ilgili aşağıdaki yarguların hangisine ulaşılamaz?

- A) Kastlar arasındaki ayrımları belirleyen unsurlar değişken değildir.
- B) Bireylerin kastlar arasında toplumsal hareketliliği mümkün değildir.
- C) Bireylerin toplumsal konumları değişmeden devam eder.
- D) Bireylerin farklı kastlarda yer alması toplumsal etkileşimi güçlendirir.
- E) Bireylerin statü ve rollerini ait oldukları kast belirler.

45. Toplumsal değişmeyi anlamlı bir biçimde yorumlayabilmek için değişimin gözlenebileceği çeşitli genel görünüşleri anlamamız gerekir. Tüm değişimler geçicidir. Toplumsal değişim, insanların biyolojik yaşlanma sürecine benzemez; toplum veya kültür ne yorulur ne de güçten düşer. Davranış örüntülerinin yenilenmesi veya terk edilmesi belirli bir sürece bağlıdır.

Bu parçada toplumsal değişimin hangi unsurla olan ilişkisi vurgulanmaktadır?

- A) Ekonomi B) Çevre C) Nüfus
- D) Teknoloji E) Zaman

46. Klasik mantıkta ters döndürme, bir önermenin niteliğini ve doğruluk değerini değiştirmeden öznesinin karşıt hâlini yüklem, yüklemine karşıt hâlini özne yapma işlemidir.

Buna göre “Bütün martılar kuştur.” önermesinin ters döndürmesi aşağıdakilerden hangisidir?

- A) Bazı kuş olmayanlar martı olmayandır.
- B) Hiçbir kuş martı değildir.
- C) Hiçbir martı olmayan kuş olmayan değildir.
- D) Bütün kuş olmayanlar martı olmayandır.
- E) Bütün kuşlar martıdır.

ÖSYM
Bu soruların telif hakları ÖSYM'ye aittir. Sorular ÖSYM'nin yazılı izni olmaksızın hiçbir kişi, kurum veya kuruluş tarafından kullanılamaz.

1. Bu testte 40 soru vardır.

2. Cevaplarınızı, cevap kâğıdının Matematik Testi için ayrılan kısmına işaretleyiniz.

1. Aşağıdaki kutuların içine 1'den 9'a kadar olan tam sayılardan 6 tanesi her kutuya farklı bir sayı gelecek şekilde yerleştirildiğinde tüm eşitlikler sağlanmaktadır.

$$\square + \square = 5$$

$$\square - \square = 5$$

$$\square : \square = 5$$

Buna göre, kullanılmayan tam sayıların toplamı kaçtır?

- A) 23 B) 21 C) 19 D) 17 E) 15

2. a, b ve c asal sayılar olmak üzere,

$$a(a + b) = c(c - b) = 143$$

eşitlikleri veriliyor.

Buna göre, $a + b + c$ toplamı kaçtır?

- A) 22 B) 26 C) 30 D) 32 E) 38

3. x ve y tam sayıları için

$$9^x - 3^{2x-2} = 2^y \cdot 3^6$$

eşitliği sağlanmaktadır.

Buna göre, $x + y$ toplamı kaçtır?

- A) 3 B) 4 C) 5 D) 6 E) 7

4. İçinde bir A doğal sayısının yazılı olduğu n kenarlı çokgen sembolünün değeri,

$$A + (A + 1) \cdot (A + 2) \cdot \dots \cdot (A + n)$$

çarpımına eşittir.

Örnek: $\square_2 = 3 \cdot 4 \cdot 5 \cdot 6 = 360$

Buna göre,

$$\frac{\square_4}{\square_5}$$

$$\square_5$$

bölümünün değerini gösteren sembol aşağıdakilerden hangisidir?

- A) \triangle_4 B) \square_1 C) \pentagon_1
D) \triangle_2 E) \square_3

5. a, b ve c gerçel sayıları için

$$a - b < 0 < c < c - b$$

eşitsizliği veriliyor.

Buna göre,

I. $a \cdot b \cdot c > 0$

II. $(a + c) \cdot b > 0$

III. $b - a + c > 0$

ifadelerinden hangileri her zaman doğrudur?

- A) Yalnız I B) Yalnız II C) I ve II
D) I ve III E) II ve III

6. x ve y tam sayılar olmak üzere,

$$|x - 3| + |2x + y| + |2x + y - 1| = 1$$

eşitliği sağlanmaktadır.

Buna göre, y 'nin alabileceği değerler toplamı kaçtır?

- A) -12 B) -11 C) -10 D) -9 E) -8

7. Üç basamaklı ABA doğal sayısının iki basamaklı A1 doğal sayısı ile bölümünden elde edilen bölüm 13, kalan ise 19 oluyor.

Buna göre, $A + B$ toplamı kaçtır?

- A) 8 B) 9 C) 10 D) 11 E) 12

8. A, B ve C kümeleriyle ilgili

$$\{(1, 2), (2, 3), (3, 4)\} \subseteq A \times B$$

$$\{(1, 2), (3, 4), (4, 2), (4, 4)\} \subseteq A \times C$$

olduğu biliniyor.

Buna göre,

I. $A \cap B$ kümesi en az 3 elemanlıdır.

II. $A \cap C$ kümesi en az 3 elemanlıdır.

III. $B \cap C$ kümesi en az 3 elemanlıdır.

ifadelerinden hangileri her zaman doğrudur?

- A) Yalnız I B) Yalnız II C) Yalnız III
D) I ve II E) I ve III

9. Her elemanı bir pozitif tam sayı olan bir kümenin eleman sayısı, bu kümenin en küçük elemanının değerinden bir fazla ise bu kümeye geniş küme denir.

A, B ve C geniş kümeler olmak üzere,

- $A \cup B \cup C = \{1, 2, 3, 4, 5, 6, 7, 8, 9\}$
- $A \cap B = \{3\}$
- $1 \in A$
- $6 \in B$

olduğu biliniyor.

Buna göre, C kümesi aşağıdakilerden hangisidir?

- A) $\{1, 2\}$ B) $\{3, 4, 8, 9\}$ C) $\{3, 5, 7, 8\}$
D) $\{4, 5, 6, 7, 8\}$ E) $\{4, 5, 7, 8, 9\}$

10. Karmaşık sayılar kümesinde

$$\frac{i \cdot (2 - i) \cdot (2 - 4i)}{(1 - i) \cdot (1 + i)}$$

işleminin sonucu kaçtır?

- A) 2 B) 5 C) 10 D) 2i E) 5i

11. z karmaşık sayısının eşleniği \bar{z} olmak üzere,

$$\frac{6 + 2i}{z} = \bar{z} + i$$

eşitliğini sağlayan z karmaşık sayılarının toplamı kaçtır?

- A) $1 + 3i$ B) $2 + i$ C) $3 + 2i$
D) $4 + i$ E) $4 + 4i$

12. a ve b asal sayılar olmak üzere,

- $\boxed{a \ b}$ değeri, a ve b 'nin kuvvetlerinin çarpımı olarak yazılabilecek en büyük iki basamaklı doğal sayı

- $\boxed{a \ b}$ değeri, a ve b 'nin kuvvetlerinin çarpımı olarak yazılabilecek en küçük üç basamaklı doğal sayı

olarak tanımlanıyor.

Örnek:

$$\boxed{3 \ 7} = 3^4 \cdot 7^0 = 81$$

$$\boxed{3 \ 7} = 3^1 \cdot 7^2 = 147$$

Buna göre,

$$\boxed{3 \ 5} - \boxed{2 \ 3}$$

işleminin sonucu kaçtır?

- A) 22 B) 29 C) 35 D) 42 E) 47

13. a ve b sıfırdan farklı birer tam sayı olmak üzere, gerçel sayılar kümesi üzerinde bir f fonksiyonu

$$f(x) = ax + b$$

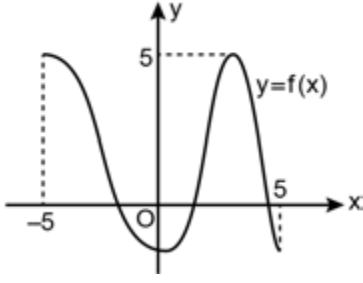
biçiminde tanımlanıyor.

$$(f \circ f)(x) = f(x + 2) + f(x)$$

olduğuna göre, $f(3)$ değeri kaçtır?

- A) 7 B) 8 C) 9 D) 10 E) 11

14. Dik koordinat düzleminde $[-5, 5]$ kapalı aralığında tanımlı bir f fonksiyonunun grafiği şekilde verilmiştir.



Bu fonksiyonun tanım kümesinde yer alan birbirinden farklı a, b, c ve d sayıları için

$$f(a) = f(b) = 1$$

$$f(c) = f(d) = 3$$

eşitlikleri sağlanmaktadır.

Buna göre a, b, c ve d sayılarının sıralamasıyla ilgili

I. $a < b < c < d$

II. $c < a < b < d$

III. $c < d < a < b$

eşitsizliklerinden hangileri doğru olabilir?

- A) Yalnız I B) Yalnız II C) I ve II
D) II ve III E) I, II ve III

15. $P(x)$ ve $Q(x)$ sabit olmayan birer polinom, $R(x)$ ise birinci dereceden bir polinom olmak üzere,

$$P(x) = Q(x) \cdot R(x)$$

eşitliği sağlanmaktadır.

Buna göre,

I. $P(x)$ ve $R(x)$ polinomlarının sabit terimleri aynıdır.

II. $P(x)$ 'in grafiği bir parabol ise $Q(x)$ 'in grafiği bir doğrudur.

III. $Q(x)$ polinomunun her kökü $P(x)$ polinomunun da bir ködür.

ifadelerinden hangileri her zaman doğrudur?

- A) Yalnız II B) Yalnız III C) I ve II
D) I ve III E) II ve III

16. Her birinin en yüksek dereceli teriminin katsayısı 1 olan üçüncü dereceden gerçel katsayılı $P(x)$ ve $R(x)$ polinomları için 2 ve 6 ortak köklerdir. $P(x) - R(x)$ polinomu $x - 1$ ile bölündüğünde kalan 10 olmaktadır.

Buna göre, $P(0) - R(0)$ değeri kaçtır?

- A) 24 B) 27 C) 30 D) 33 E) 36

17. m ve n tam sayılar olmak üzere,

$$(x^2 + 2y)^7$$

ifadesinin açılımında terimlerden biri $m x^n y^2$ olduğuna göre, $m + n$ toplamı kaçtır?

- A) 56 B) 64 C) 72 D) 86 E) 94

18. a ve b pozitif gerçel sayılar olmak üzere,

$$2ax^2 - 5bx + 8b = 0$$

denkleminin kökleri a ve b 'dir.

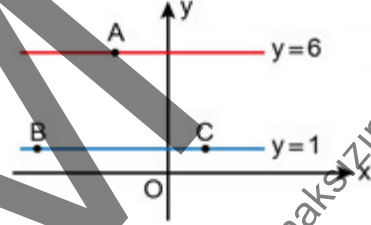
Buna göre, $a + b$ toplamı kaçtır?

- A) 5 B) 6 C) 10 D) 12 E) 15

19. a , b ve c gerçel sayılar olmak üzere,

$$y = ax^2 + bx + c$$

parabolü $y = 1$ doğrusuyla B ve C noktalarında, $y = 6$ doğrusuyla ise sadece A noktasında kesişmektedir. Dik koordinat düzleminde A , B ve C noktalarının yerleri aşağıdaki şekilde gösterilmiştir.



Buna göre a , b ve c sayılarının işaretleri sırasıyla aşağıdakilerden hangisidir?

- A) +, -, - B) +, +, - C) -, +, +
D) -, -, - E) -, -, +

20. Bir çubuk eşit uzunlukta 4 parçaya bölündüğünde her bir parçanın uzunluğu $\log_5(x)$ birim, eşit uzunlukta 10 parçaya bölündüğünde her bir parçanın uzunluğu

$$\log_5\left(\frac{x^2}{25}\right) \text{ birim olmaktadır.}$$

Buna göre, çubuğun uzunluğu kaç birimdir?

- A) 5 B) 8 C) 10 D) 12 E) 15

21. n bir tam sayı ve $1 < n < 100$ olmak üzere,

$$\log_2(\log_3 n)$$

ifadesinin değeri bir pozitif tam sayıya eşittir.

Buna göre, n sayısının alabileceği değerler toplamı kaçtır?

- A) 36 B) 45 C) 63 D) 72 E) 90

22. a ve b , 1'den farklı pozitif gerçel sayılar olmak üzere,

$$\log_a 2 < 0 < \log_2 b$$

eşitsizliği sağlanmaktadır.

Buna göre,

I. $a + b > 1$

II. $b - a > 0$

III. $a \cdot b > 1$

ifadelerinden hangileri her zaman doğrudur?

- A) Yalnız I B) Yalnız II C) I ve II
D) I ve III E) I, II ve III

23. (a_n) gerçel sayılar dizisi her n pozitif tam sayısı için

$$a_{n+1} = a_n + \frac{(-1)^n \cdot a_n}{2}$$

eşitliğini sağlamaktadır.

$a_5 = 18$ olduğuna göre, a_1 kaçtır?

- A) 4 B) 8 C) 16 D) 32 E) 64

24. Bütün terimleri pozitif ve ortak çarpanı r olan bir (a_n) geometrik dizisi için

$$a_1 = \frac{1}{2} + r$$

$$a_7 = a_5 + 12 \cdot a_3$$

eşitlikleri veriliyor.

Buna göre, a_8 kaçtır?

- A) 180 B) 200 C) 240 D) 280 E) 320

25. 5 Ekim 2020 Pazartesi ile 18 Ekim 2020 Pazar günleri arasındaki günler ve bu iki gün de dahil olmak üzere, bu 14 gün içinden iki farklı günde birer toplantı yapılacaktır.

Toplantılardan en az biri hafta içi olacak biçimde bir düzenleme yapılmak istendiğine göre, bu düzenleme kaç farklı şekilde yapılabilir?

- A) 70 B) 75 C) 80 D) 85 E) 90

26. Sözel ve sayısal bölümlerinde 4'er soru olmak üzere toplam 8 sorudan oluşan bir sınavın kitapçığında

"Sınavı geçmek için sözel ve sayısal bölümlerin her birinden en az 2'ser soru olmak üzere toplam en az 5 soruyu doğru cevaplamalısınız."

ifadesi yer almaktadır.

Bu ifadeyi eksik okuyan Sevcan, sınavdaki 8 sorudan rastgele 5'ini seçmiş ve seçtiği her bir soruyu doğru cevaplamıştır.

Buna göre, Sevcan'ın sınavı geçme olasılığı kaçtır?

- A) $\frac{3}{4}$ B) $\frac{4}{5}$ C) $\frac{5}{6}$
D) $\frac{6}{7}$ E) $\frac{7}{8}$

27.
$$\frac{2\tan x - \sin(2x)}{\sin^2 x}$$

ifadesinin sadeleştirilmiş biçimi aşağıdakilerden hangisidir?

- A) $2\tan x$ B) $\tan(2x)$ C) $2\cos x$
D) $\cos(2x)$ E) 1

28. Dar açılı bir ABC üçgeninin iç açılarının ölçüleri derece türünden x , y ve z olmak üzere, $x > y > z$ olduğu biliniyor.

Buna göre,

$$a = \sin(x + y)$$

$$b = \sin(x + z)$$

$$c = \sin(y + z)$$

sayılarının doğru sıralanışı aşağıdakilerden hangisidir?

- A) $a < b < c$ B) $b < a < c$ C) $b < c < a$
D) $c < a < b$ E) $c < b < a$

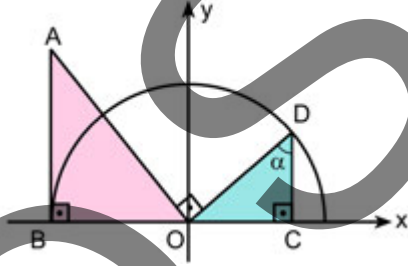
29. $0 < x < \frac{\pi}{2}$ olmak üzere,

$$\frac{1 + \tan x}{\cot x} \cdot \frac{\sin x - \cos x}{\sin x} = 2$$

olduğuna göre, $\sin x$ değeri kaçtır?

- A) $\frac{1}{3}$ B) $\frac{3}{5}$ C) $\frac{\sqrt{2}}{2}$
D) $\frac{\sqrt{3}}{2}$ E) $\frac{\sqrt{5}}{3}$

30. Dik koordinat düzleminde O merkezli yarıçapı 1 birim olan yarım çember ile B ve D noktaları bu yarım çember üzerinde olan OAB ve OCD dik üçgenleri aşağıda gösterilmiştir.

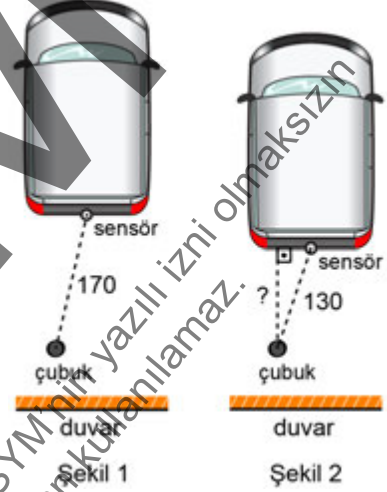


Şekilde [OA] ve [OD] doğru parçaları dik kesilmektedir.

Buna göre, OAB üçgeninin alanının OCD üçgeninin alanına oranının α türünden eşiti aşağıdakilerden hangisidir?

- A) $\tan \alpha$ B) $\cot \alpha$ C) $\csc \alpha$
D) $\tan^2 \alpha$ E) $\sec^2 \alpha$

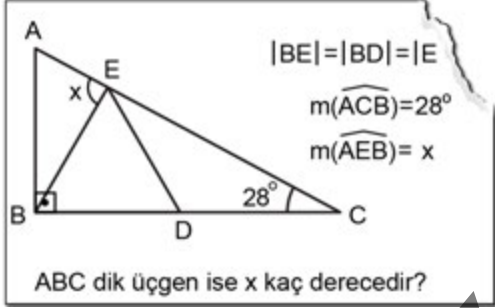
31. Bir aracın arkasındaki sensör, araç geri giderken sensörün bir cisme olan uzaklığına göre ötmektedir. Başlangıçta Şekil 1'deki gibi arkasındaki duvara dik konumda duran aracın sensörü ile çubuk arasındaki mesafe 170 santimetredir. Daha sonra araç, doğrultusunu değiştirmeden 60 santimetre geri gittiğinde sensör ötmeye başladığı için araç Şekil 2'deki gibi durmuştur. Son durumda sensörle çubuk arasındaki mesafe 130 santimetredir.



Buna göre, son durumda çubuğun araca olan dik uzaklığı kaç santimetredir?

- A) 40 B) 50 C) 60 D) 70 E) 80

32. Ders kitabından aşağıdaki soruyu çözmek isteyen Engin, sayfanın bir kısmı yırtık olduğu için uzunlukları birbirine eşit, farklı üç doğru parçasından bir ucu E olan sonuncu doğru parçasının hangisi olduğunu anlayamıyor.

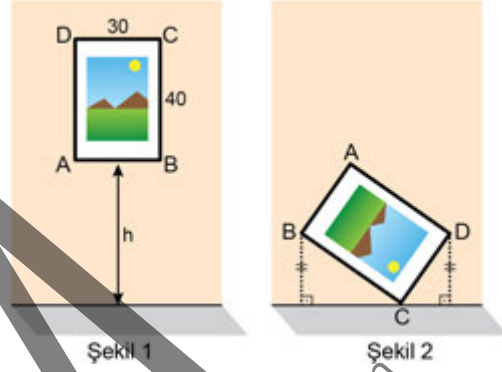


Bu yüzden bu doğru parçası yerine bir ucu E diğer ucu A, D ve C'den biri olan rastgele bir doğru parçası seçiyor ve bu seçime göre işlem hatası yapmadan soruyu çözüyor. Cevap anahtarına baktığında ise bulunduğu sonucun doğru olmadığını görüyor.

Cevap anahtarı hatalı olmadığına göre, Engin'in bulunduğu sonuç ile doğru cevap arasındaki fark kaç derecedir?

- A) 30 B) 31 C) 32 D) 33 E) 34

- 33.

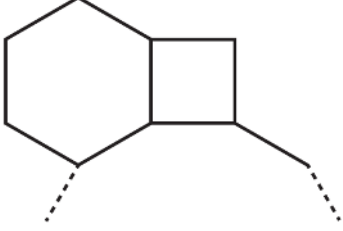


Kenar uzunlukları 30 ve 40 birim olan dikdörtgen şeklindeki bir çerçeve dört köşesine çivi çakılarak AB kenarı yere paralel ve yerden yüksekliği h birim olacak biçimde Şekil 1'deki gibi duvara asılıyor. Sonra, A köşesindeki çivi hariç diğer çiviler gevşeyip düşüyor ve A köşesi etrafında dönen çerçeve C köşesi yere değdiğinde Şekil 2'deki gibi tüm köşeleri duvara değecek biçimde dengeye kalıyor.

Bu denge durumunda B ve D köşelerinin yerden yükseklikleri birbirine eşit olduğuna göre, h kaç birimdir?

- A) 42 B) 48 C) 54 D) 60 E) 64

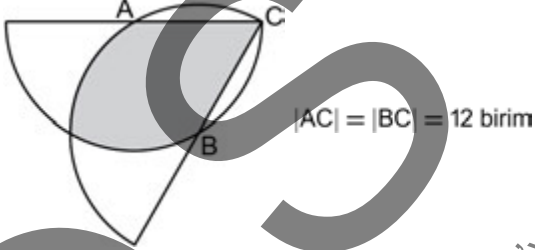
34. Şekilde birer kenarları ortak olan bir düzgün altıgen ve bir kare verilmiştir. Bir kenarı düzgün altıgen, bir kenarı da kare ile ortak olan bir düzgün çokgen şekildeki gibi çizilmek isteniyor.



Buna göre, çizilmek istenen düzgün çokgenin kenar sayısı kaçtır?

- A) 10 B) 12 C) 15 D) 16 E) 18

35.



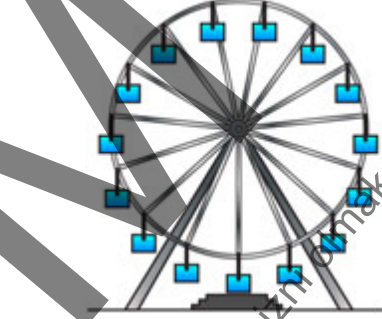
Yukarıdaki şekilde A merkezli $[AC]$ yarıçaplı yarım çember ve B merkezli $[BC]$ yarıçaplı yarım çember verilmiştir. B noktası A merkezli çemberin, A noktası ise B merkezli çemberin üzerindedir.

Buna göre, boyalı bölgenin alanı kaç birim karedir?

- A) 36π B) 42π C) 48π D) 54π E) 60π

36. Bir lunaparkta şekildeki gibi düz bir zeminde bulunan özdeş kabinlerden oluşan dairesel bir dönme dolap sadece bir yöne doğru dönmektedir. Bu dönme dolabın bir kabinine, kabin yere en yakın olduğu durumdayken binilmektedir.

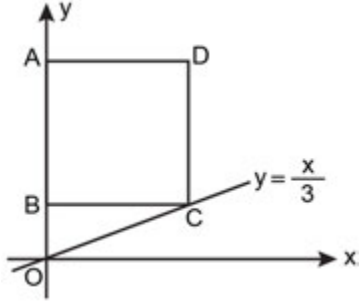
Meryem bir kabine binip dönme dolap 48° döndükten sonra Nisa da bir kabine binmiştir.



Buna göre, Nisa kabine bindikten sonra Meryem ve Nisa'nın bulunduğu kabinlerin zeminden yükseklikleri ilk kez aynı olduğunda dönme dolap kaç derece dönmüştür?

- A) 130 B) 138 C) 144 D) 150 E) 156

37. Dik koordinat düzleminde iki köşesi $A(0, a)$ ve $B(0, b)$ noktaları olan ABCD karesi aşağıda verilmiştir.



ABCD karesinin C köşesi $y = \frac{x}{3}$ doğrusu üzerindedir.

$a + b = 15$ olduğuna göre, D noktasının koordinatları toplamı kaçtır?

- A) 14 B) 18 C) 21 D) 24 E) 27

38. Dik koordinat düzleminde bir d doğrusunun $A(-4, 1)$ noktasından geçtiği ve $2x - y = 5$ doğrusuna dik olduğu biliniyor.

d doğrusunun x-eksenini kestiği nokta $(a, 0)$ ve y-eksenini kestiği nokta $(0, b)$ olduğuna göre, $a + b$ toplamı kaçtır?

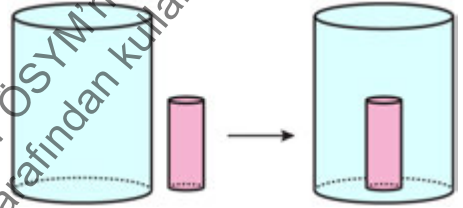
- A) -3 B) -1 C) 0 D) 1 E) 3

39. Dik koordinat düzleminde $A(2, 7)$ ve $B(-1, 4)$ noktaları x-ekseni boyunca pozitif yönde 3 birim ötelenerek sırasıyla D ve C noktaları elde ediliyor.

Buna göre köşeleri A, B, C ve D noktaları olan dörtgenin alanı kaç birimkaredir?

- A) 9 B) 10 C) 11 D) 12 E) 13

40. İçi tamamen su dolu silindir biçimindeki bir kap ile yüksekliği bu kabın yüksekliğinin yarısına eşit olan silindir biçimindeki bir mermer blok aşağıda verilmiştir.



Mermer blok, tamamı suya batacak biçimde kabın içine konduğunda kaptaki suyun $\frac{1}{32}$ 'si taşmaktadır.

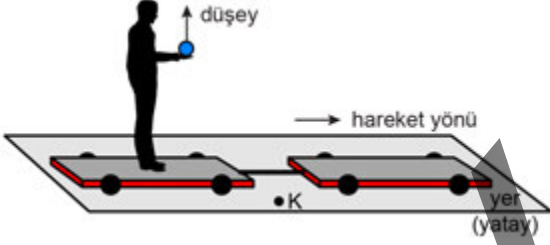
Buna göre, kabın taban yarıçapının mermer bloğun taban yarıçapına oranı kaçtır?

- A) 2 B) 3 C) 4 D) $2\sqrt{2}$ E) $4\sqrt{2}$

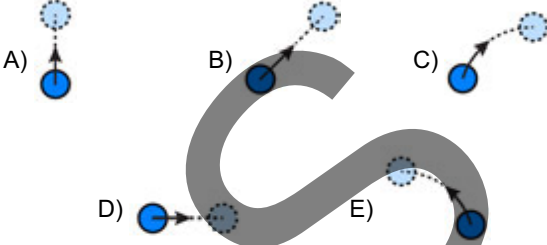
1. Bu testte sırasıyla, Fizik (1-14), Kimya (15-27), Biyoloji (28-40) alanlarına ait toplam 40 soru vardır.

2. Cevaplarınızı, cevap kâğıdının Fen Bilimleri Testi için ayrılan kısmına işaretleyiniz.

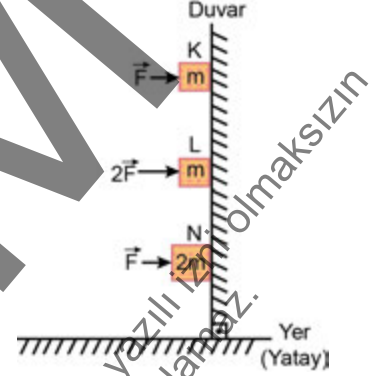
1. Yatay düzlemde ve şekilde belirtilen yönde sabit hızla gitmekte olan üstü açık vagon üzerinde duran Selami, elindeki küçük bir topu hava direncinin ihmal edildiği ortamda, kendine göre düşey doğrultuda yukarıya doğru atmıştır. Şekildeki K noktasında ayakta duran bir gözlemci ise bu olayı izlemektedir.



Buna göre, durgun gözlemci top elden çıkıp hareketinin tepe noktasına varıncaya kadar geçen sürede topun izlediği yolu aşağıdakilerden hangisi gibi görür?



2. Kütleleri m , m ve $2m$ olan sırasıyla K, L ve N tuğlarına şekilde gösterildiği gibi yatay \vec{F} , $2\vec{F}$ ve \vec{F} kuvvetleri yer çekimi ivmesinin sabit olduğu ortamda uygulanmaktadır.



Tuğlar hareket etmeden durduklarına göre, duvar yüzeyinin K, L ve N tuğlarına uyguladığı statik sürtünme kuvvetlerinin büyüklükleri f_K , f_L ve f_N arasındaki ilişki nedir?

A) $f_K > f_L = f_N$ B) $f_K = f_L > f_N$ C) $f_N > f_K = f_L$

D) $f_L > f_K = f_N$ E) $f_K = f_L = f_N$

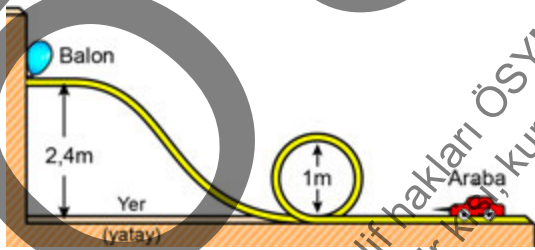
3. Bir öğrenci hava direncinin ihmal edildiği ortamda, yerden belirli bir açıyla yukarıya doğru fırlatılan noktasal bir cismin fırlatma sonrası hareketi hakkında topladığı bilgilerden yararlanarak aşağıdaki tabloyu hazırlamıştır.

| | Değişkenler | Cisim Yükselirken | Cisim Alçalırken |
|-----|--|-------------------|------------------|
| I | cismin ivme vektörünün yönü | yukarı | aşağı |
| II | cismin hızının yatay bileşeninin büyüklüğü | değişmez | değişmez |
| III | cismin hızının düşey bileşeninin büyüklüğü | artar | azalır |
| IV | cismin toplam mekanik enerjisi | değişmez | değişmez |

Öğrencinin hazırladığı tablodaki değişkenler ve bu değişkenlerle ilgili bilgileri içeren satırlardan hangileri doğrudur?

- A) Yalnız I B) I ve II C) II ve IV
D) III ve IV E) I, II ve III

4. İrem çocuk parkında oynarken ray üzerinde duran yeterince küçük bir oyuncak arabayı iterek hedefteki balonu patlatmaya çalışıyor. Oyunda ucunda iğne bulunan arabanın, İrem'in verdiği ilk hızla, önce 1 metre çaplı çembersel rayda bir tam tur atması ve sonra 2,4 metre yükseklikteki balona ulaşması gerekmektedir.

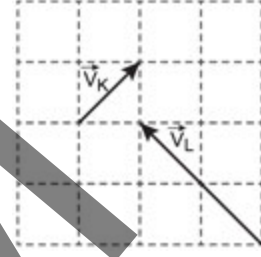


Balonun patlaması için arabanın en az 1 m/s hızla balona çarpması gerektiğine göre, İrem'in oyuncak arabaya kazandırması gereken ilk hızın büyüklüğü en az kaç m/s olmalıdır?

(Yer çekimi ivmesi 10 m/s^2 dir, sürtünmeler ihmal edilmektedir.)

- A) 4 B) 5 C) $4\sqrt{2}$ D) 7 E) $3\sqrt{6}$

5. Eşit kütleli K ve L arabalarının yatay platformda, merkezî ve esnek çarpışmadan önceki hız vektörleri aşağıdaki şekilde sırasıyla \vec{V}_K ve \vec{V}_L olarak verilmektedir.



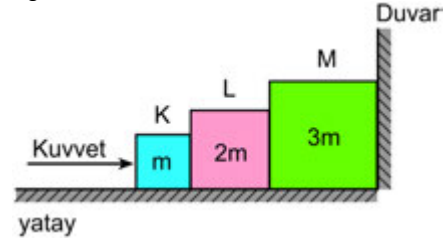
Sisteme çarpışma düzleminde dışarıdan etkiyen kuvvet olmadığına göre çarpışmadan sonra,

- I. K arabasının hızının yönü değişmez.
II. L arabasının hızının yönü değişir.
III. L arabasının momentumu değişir.

yargularından hangileri doğru olur?

- A) Yalnız I B) Yalnız II C) Yalnız III
D) I ve II E) II ve III

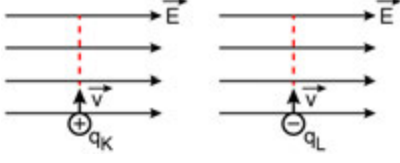
6. Kütleleri sırasıyla m, 2m ve 3m olan küp şeklindeki K, L ve M blokları sürtünmesiz yatay düzlem üzerinde şekilde gösterildiği gibi uygulanan yatay kuvvete rağmen hareketsiz durmaktadır.



Buna göre K bloğunun L bloğuna uyguladığı temas kuvvetinin büyüklüğü F ise düşey doğrultudaki duvarın M bloğuna uyguladığı temas kuvvetinin büyüklüğü kaç F'dir?

- A) 1/4 B) 1/2 C) 1 D) 3/2 E) 2

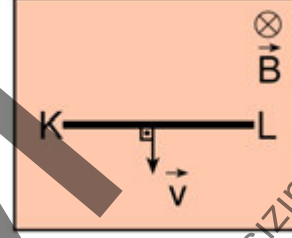
7. Yer çekiminin ihmal edildiği bir ortamda, sayfa düzleminde sağ tarafa doğru yönelmiş düzgün bir elektrik alan oluşturulmuştur. Pozitif yüklü q_K parçacığı ile negatif yüklü q_L parçacığı şekillerde gösterildiği gibi alana dik bir şekilde \vec{v} hızıyla gönderilmiştir.



Buna göre, bu parçacıkların elektrik alan içerisindeki hareketleri aşağıdakilerin hangisinde doğru gösterilmiştir?

- A) B) C) D) E)

8. Başlangıçta nötr olan iletken KL çubuğu, sayfa düzlemine dik ve içeri doğru yönelmiş sabit B manyetik alan bölgesinde sabit \vec{v} hızı ile şekilde gösterilen doğrultuda hareket etmektedir.



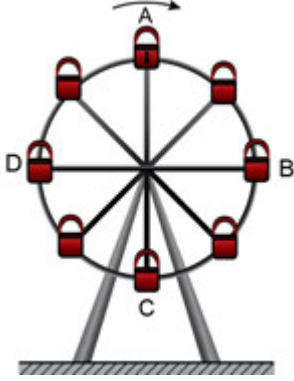
Buna göre, çubuğun K ve L uçlarındaki elektrik yük dağılımıyla ilgili aşağıdakilerden hangisi doğrudur?

- | | K | L |
|----|------|---|
| A) | + | - |
| B) | - | + |
| C) | - | - |
| D) | + | + |
| E) | nötr | - |

9. Elektrik enerjisinin santrallerden mesken ve sanayi bölgesi gibi tüketim alanlarına yüksek gerilim altında taşınmasının temel nedeni aşağıdakilerden hangisidir?

- A) Enerji kaybını azaltmak
B) Aktarım sırasında gerilim düşmelerini önlemek
C) Enerjiyi daha kısa zamanda iletmek
D) Enerjiyi trafolarla depolamak
E) Enerji talebini kısa sürede karşılamak

10. Aleyna, sabit açısal hızla hareket eden şekildeki dönme dolabın kabinlerinden birinin içinde oturmaktadır.



Aleyna'nın bulunduğu kabin; A, B, C ve D noktalarından geçerken Aleyna'ya etki eden merkezci kuvvetlerin büyüklükleri sırasıyla F_A , F_B , F_C ve F_D olmaktadır.

Aleyna'nın kütle merkezinin, dönme eksenine olan uzaklığının daima sabit kaldığı bilindiğine göre F_A , F_B , F_C ve F_D arasındaki ilişki aşağıdakilerden hangisidir?

- A) $F_A = F_B = F_C = F_D$ B) $F_A > F_C > F_B = F_D$
 C) $F_A = F_C > F_B = F_D$ D) $F_A > F_B > F_C > F_D$
 E) $F_C > F_A > F_B = F_D$
11. Çizgisel momentumu zamanla değişen fakat kütlesi ve kinetik enerjisinin sabit olduğu bilinen hareketli bir cisimle ilgili,
- I. Üzerine etki eden net kuvvet sıfırdır.
 II. Üzerine etki eden kuvvetlerin yaptığı iş sıfırdır.
 III. İvmesi sıfırdır.
- yargılarından hangileri kesinlikle doğrudur?**
- A) Yalnız I B) Yalnız II C) I ve II
 D) I ve III E) II ve III

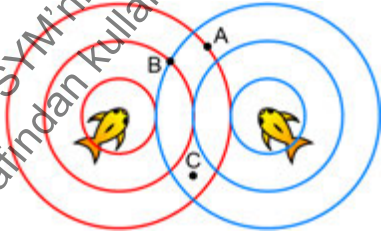
12. Belli bir eksen etrafında dönmekte olan bir cismin, dönme eksenine göre eylemsizlik momentiyle ilgili,

- I. Dönme hareketine karşı gösterilen direncin ölçüsüdür.
 II. Cismin kütlesine bağlıdır.
 III. Dönme eksenine etrafındaki dönüş yönüne bağlıdır.

yargılarından hangileri doğrudur?

- A) Yalnız I B) Yalnız II C) I ve II
 D) I ve III E) II ve III

13. Durgun su ile dolu bir havuzda bulunan iki balık, yüze yakın bir konumda suya göre hareketsiz durarak ağızlarını periyodik hareketlerle açıp kapatmakta böylece şekildeki gibi eş fazlı ve eşit genlikli dairesel su dalgaları oluşturmaktadır. Şekilde çizilen çemberler dalga tepelerini göstermektedir.



Buna göre, su yüzeyindeki A, B ve C noktalarında yüzen hafif yem taneciklerinden hangileri oluşan dalgalardan etkilenmeden hareketsiz kalabilir?

- A) Yalnız A B) Yalnız B C) Yalnız C
 D) A ve C E) B ve C

14. Bir öğretmen sınıfta basit sarkaç ve kütle-yay sistemlerinin periyotlarını belirlemek amacıyla sürtünmelerin ihmal edildiği bir ortamda aşağıdaki deneyleri öğrencilerine yapmıştır:
- Kendi tasarladığı bir basit sarkacın, küçük açısal genlikli salınımlarının periyodunu T_B olarak ölçmüştür.
 - Bir ucu tavana bağlı esnek yayın diğer ucuna astığı kütlelerin düşey doğrultudaki salınımlarının periyodunu T_Y olarak ölçmüştür.

Öğretmen, bu sistemlerin fiziksel özelliklerini değiştirmeden aynı deneyleri simülasyonla yeryüzü yerine ay yüzeyinde gerçekleştirseydi T_B ve T_Y periyotlarının değerleri ilk duruma göre nasıl değişirdi?

| | T_B | T_Y |
|----|----------|----------|
| A) | Artar | Değişmez |
| B) | Artar | Artar |
| C) | Azalır | Artar |
| D) | Azalır | Değişmez |
| E) | Değişmez | Değişmez |

15. Temel hâldeki bir atomun enerji seviyesi en yüksek orbitalinde 1 elektron vardır ve bu elektronun kuantum sayıları aşağıda verilmiştir.
- Baş kuantum sayısı (n) = 4
 - Açısal momentum kuantum sayısı (l) = 0
- Bu atomda manyetik kuantum sayısı (m_l) = 0 olan toplam kaç elektron vardır?
- A) 7 B) 9 C) 10 D) 11 E) 12

16. Temel hâldeki ${}_{22}\text{Ti}$ atomunun elektron dizilimiyle ilgili aşağıdaki ifadelerden hangisi doğrudur?

- A) p orbitallerinde toplam 14 elektron bulunur.
 B) d orbitallerinde toplam 4 elektron bulunur.
 C) Baş kuantum sayısı (n) 4 olan toplam 4 elektron vardır.
 D) s orbitallerinde toplam 8 elektron bulunur.
 E) Açısal momentum kuantum sayısı (l) 3 olan toplam 2 elektron vardır.

17. Aşağıda gösterildiği gibi ayrı kaplarda bulunan H_2 ve He gazları musluklar açılarak sabit sıcaklıkta karıştırılıyor.



Buna göre, gaz karışımının toplam basıncı kaç atmosferdir?

(Toplam hacim yanında musluk hacimlerinin ihmal edilebilir olduğu ve gazların ideal gaz olarak davrandığı varsayılacaktır.)

- A) 0,10 B) 0,20 C) 0,25 D) 0,50 E) 1,00

18. Sıcaklıkları aynı olan 100 mL 2 M K_2SO_4 ve 400 mL 1 M KNO_3 sulu çözeltileri karıştırıldığında oluşan yeni çözeltideki K^+ iyonunun derişimi kaç molar olur?

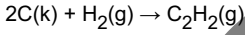
(K_2SO_4 ve KNO_3 ün suda tamamen iyonlarına ayrışarak çözüldüğü ve toplam hacmin 500 mL olduğu varsayılacaktır.)

- A) 1,2 B) 1,4 C) 1,6 D) 1,8 E) 2,0

19. CaCl_2 nin 500 g su kullanılarak hazırlanan sulu çözeltisinin donmaya başladığı sıcaklık, saf suyun donma noktasına göre $5,58^\circ\text{C}$ daha düşüktür.
Buna göre, CaCl_2 sulu çözeltisinde kaç mol Ca^{2+} iyonu bulunur?
(Su için molal donma noktası alçalması sabiti, $K_d = 1,86^\circ\text{C/m}$; CaCl_2 nin suda tamamen iyonlarına ayrışarak çözüldüğü varsayılacaktır.)
A) 0,25 B) 0,50 C) 1,00 D) 1,50 E) 2,00

20. $\text{C}_2\text{H}_2(\text{g})$, $\text{C}(\text{k})$ ve $\text{H}_2(\text{g})$ 'nin birer mollerinin yanma tepkimelerinin standart entalpi değişimleri aşağıda verilmiştir.
- $$\text{C}_2\text{H}_2(\text{g}) + 5/2\text{O}_2(\text{g}) \rightarrow 2\text{CO}_2(\text{g}) + \text{H}_2\text{O}(\text{s}) \quad \Delta H^\circ = -1300 \text{ kJ}$$
- $$\text{C}(\text{k}) + \text{O}_2(\text{g}) \rightarrow \text{CO}_2(\text{g}) \quad \Delta H^\circ = -394 \text{ kJ}$$
- $$\text{H}_2(\text{g}) + 1/2\text{O}_2(\text{g}) \rightarrow \text{H}_2\text{O}(\text{s}) \quad \Delta H^\circ = -286 \text{ kJ}$$

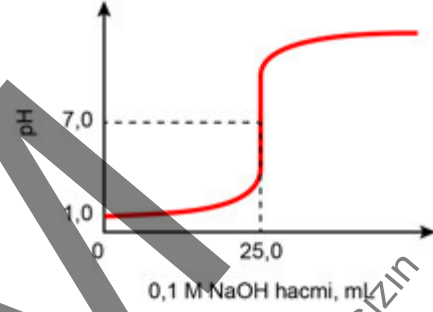
Buna göre,



tepkimesinin standart entalpi değişimi kaç kJ'dir?

- A) -1980 B) -1122 C) 226
D) 334 E) 620

21. 25°C 'de bir monoproitik asidin $0,1 \text{ M}$ 'lik sulu çözeltisi, $0,1 \text{ M}$ NaOH sulu çözeltisi ile titre ediliyor ve aşağıdaki titrasyon eğrisi elde ediliyor.

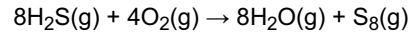


Bu deney ve titrasyon eğrisiyle ilgili aşağıdaki ifadelerden hangisi yanlıştır?

- A) Bu deneyde titre edilen asit bir kuvvetli asittir.
B) Titre edilen çözeltinin başlangıç hacmi 50 mL 'dir.
C) Titrasyonda gerçekleşen tepkime sonucu tuz oluşur.
D) Eşdeğerlik noktasında çözeltinin pH değeri 7 'dir.
E) 25 mL NaOH çözeltisi ilave edildiğinde ortamda asit tükenmiştir.

22. Bir kimyasal tepkimenin hızı, tepkimeye girenler veya ürünlerin derişimlerinin birim zamanda değişimleri cinsinden ifade edilebilir.

Buna göre,



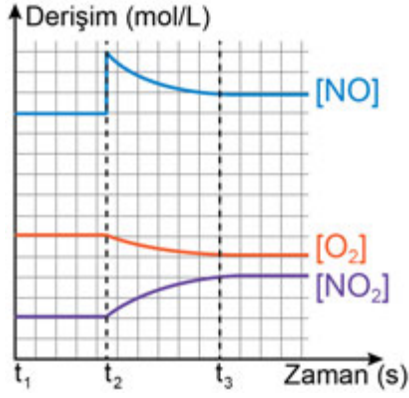
tepkimesinin hız eşitliği aşağıdakilerden hangisidir?

A) $-\frac{1}{8} \frac{\Delta[\text{H}_2\text{S}]}{\Delta t}$ B) $-\frac{1}{8} \frac{\Delta[\text{H}_2\text{O}]}{\Delta t}$

C) $-8 \frac{\Delta[\text{H}_2\text{S}]}{\Delta t}$ D) $+8 \frac{\Delta[\text{H}_2\text{O}]}{\Delta t}$

E) $+\frac{1}{4} \frac{\Delta[\text{O}_2]}{\Delta t}$

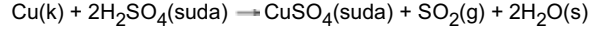
23. 25 °C'de sabit hacimli kapalı bir kaptaki gerçekleşen, $2\text{NO}(\text{g}) + \text{O}_2(\text{g}) \rightleftharpoons 2\text{NO}_2(\text{g})$ denge tepkimesindeki türlerin derişiminin zamanla deęişim grafięi ařaęıda verilmiřtir.



Buna göre, ařaęıdaki ifadelerden hangisi doęrudur?

- A) $t_1 - t_2$ zaman aralıęında tepkime dengede deęildir.
 B) t_2 anında tepkime kabına dıřarıdan NO_2 gazı ilave edilmiřtir.
 C) $t_1 - t_2$ zaman aralıęında ileri yöndeki tepkime hızı geri yöndekinden büyüktür.
 D) $t_2 - t_3$ zaman aralıęında tepkime dengededir.
 E) t_3 anından sonra ileri ve geri yöndeki tepkime hızları eřit olur.

24. $\text{Cu}(\text{k})$ ve $\text{H}_2\text{SO}_4(\text{suda})$ arasında gerçekleşen redoks tepkimesi ařaęıda verilmiřtir.



Buna göre,

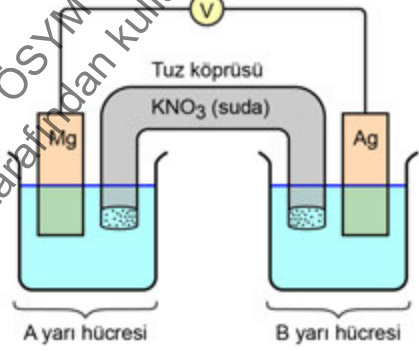
- I. Cu yükseltgenmiřtir.
 II. H_2SO_4 indirgendir.
 III. SO_2 de S'nin yükseltgenme basamaęı +6'dır.

ifadelerinden hangileri doęrudur?

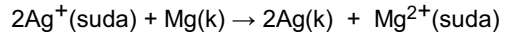
($1\text{H}, 8\text{O}, 16\text{S}, 29\text{Cu}$)

- A) Yalnız I B) Yalnız II C) I ve III
 D) II ve III E) I, II ve III

25. Ařaęıda bir galvanik hücre řekli verilmiřtir.



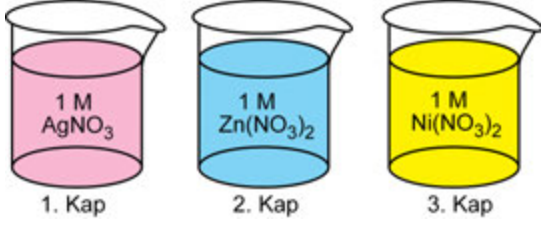
Net tepkimesi



olan bu galvanik hücreyle ilgili ařaęıdakilerden hangisi yanlıřtır?

- A) B yarı hücresinde Ag^+ iyonlarını ięeren çözeltili vardır.
 B) Tuz köprüsündeki NO_3^- iyonları A yarı hücresine geçer.
 C) A yarı hücresindeki Mg elektrodunun kütlesi zamanla azalır.
 D) B yarı hücresinde indirgenme gerçekleşir.
 E) Elektronlar dıř devreye Ag elektrottan verilir.

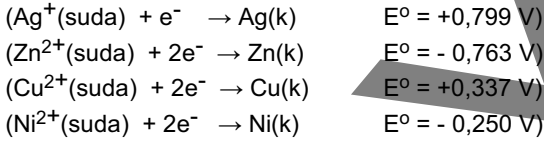
26. Aşağıda, 25 °C sıcaklıkta üç farklı sulu çözelti verilmiştir.



Bu kaplara aynı sıcaklıkta Cu metali atıldığında,

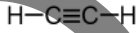
- I. 1. kapta Ag^+ iyonları indirgenirken Cu metali Cu^{2+} ya yükseltgenir.
- II. 2. kapta herhangi bir tepkime gerçekleşmez.
- III. 3. kapta Ni^{2+} iyonları indirgenirken Cu metali Cu^{2+} ya yükseltgenir.

İfadelerinden hangileri doğru olur?



- A) Yalnız I B) Yalnız II C) Yalnız III
D) I ve II E) II ve III

27. Bir organik bileşik olan asetilenin (etin) çizgi bağ formülü aşağıda verilmiştir.



Asetilende atomlar arası bağların oluşumuyla ilgili aşağıdaki ifadelerden hangisi doğrudur?

- ($_1\text{H}$, $_6\text{C}$)
- A) Hidrojen atomları sp hibritleşmesi yapmıştır.
 - B) Karbon atomları sp^2 hibritleşmesi yapmıştır.
 - C) sp orbitallerinin örtüşmesiyle oluşan toplam iki bağ vardır.
 - D) p orbitallerinin örtüşmesiyle oluşan toplam iki bağ vardır.
 - E) Karbon ve hidrojen atomları arasındaki bağ, π (pi) bağıdır.

28. Aşağıdakilerden hangisi insan dolaşım sisteminin görevleri arasında yer almaz?

- A) Hormonları hedef organlara veya hücelere taşımak
- B) Sindirim enzimlerini sindirim kanalına taşımak
- C) Azotlu atıkları böbreklere taşımak
- D) Solunum gazlarını gerekli organlara veya hücelere taşımak
- E) Antikorları işlev görecekları yerlere taşımak

29. İnsan sindirim sistemini araştıran bir öğrencinin aşağıdaki ifadelerinden hangisi yanlıştır?

- A) Epiglottis, yutkunma sırasında lokmanın soluk borusuna geçmesini önler.
- B) Yemek borusu, peristaltik hareketler ile besinin mideye iletimini sağlar.
- C) Midede besinlerin giriş ve çıkışını denetleyen özelleşmiş kaslar bulunur.
- D) İnce bağırsak astarında yer alan villuslar ve mikrovilluslar geniş bir emilim alanı oluşturur.
- E) Alınan besinlerin monomerlerine dönüştürülmesi hücre içi sindirim ile gerçekleşir.

30. İnsan gözüne gelen ışık ışınlarının;

- I. göz merceği,
- II. saydam tabaka (kornea),
- III. camsı cisim

yapılarından geçme sırası aşağıdakilerin hangisinde doğru verilmiştir?

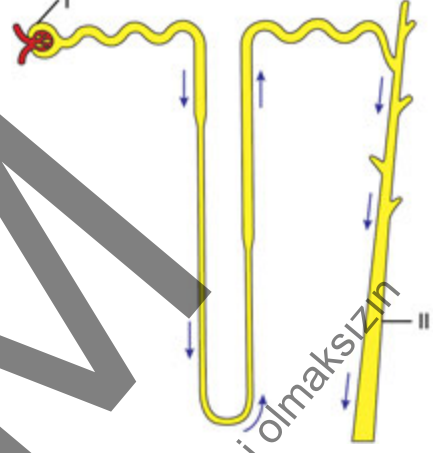
- A) I – II – III B) I – III – II C) II – I – III
D) II – III – I E) III – I – II

31. Bir biyoloji öğretmeni dersinde konuyu anlatırken "Bu olay televizyonda şifreli bir yayını izlemeye benzer yani merkezden yapılan yayın her televizyona ulaşır ancak şifre çözücüsüne sahip televizyonlarda bu yayını izlenebilir." demiştir.

Öğretmenin yapmış olduğu bu benzetme aşağıdaki biyolojik olaylardan hangisiyle ilişkilendirilebilir?

- A) İskelet kası hücrelerinin motor nöronlar sayesinde uyarılmasıyla
- B) Endokrin bezlerden kana salgılanan hormonların sadece bazı vücut hücrelerinde etki göstermesiyle
- C) Gözün retinasında sarı beneğe düşen görüntünün sarı benek dışına düşen görüntüden çok daha net algılanmasıyla
- D) Kalp kasının kendiliğinden ritmik uyarılar oluşturarak kasılıp gevşemesiyle
- E) İnsan sindirim kanalından emilen glikozun vücut hücreleri tarafından kullanılmasıyla

32. Bir öğrenci, insan üriner sistemiyle ilgili aşağıdaki şekli inceliyor.



Sağlıklı bir birey esas alındığında, bu öğrencinin şekilde gösterilen I ve II numaralı yapılarla ilgili aşağıdaki yorumlarından hangisi yanlıştır?

- A) I numaralı yapıda glikoz bulunurken II numaralı yapıda bulunması beklenmez.
- B) I ve II numaralı yapılarda kan hücrelerinin bulunması beklenmez.
- C) I numaralı yapıya süzülen kreatinin miktarı ile II numaralı yapıya iletilen kreatinin miktarı yaklaşık aynıdır.
- D) I numaralı yapıya süzülen su miktarı, II numaralı yapıya iletilen su miktarından fazladır.
- E) I numaralı yapıda bulunmayan bir maddeye II numaralı yapıda kesinlikle rastlanmaz.

33. İnsan solunum sisteminde, solunum yüzeyinden birim zamanda daha fazla gaz alışverişinin gerçekleştirilmesinde;

- I. alveollerin çok küçük olmasına karşın toplam yüzey alanının büyük olması,
- II. alveollerin duvarının çok ince ve iç yüzeylerinin nemli olması,
- III. kandaki ve alveollerdeki oksijenin kısmi basınç farkının düşük olması

durumlarından hangileri etkilidir?

- A) Yalnız I B) Yalnız III C) I ve II
D) II ve III E) I, II ve III

34. Biri ökaryotik diğeri prokaryotik hücreye ait olan, aynı uzunluktaki iki DNA molekülünün kendini eşleme hızları karşılaştırıldığında, ökaryotik hücreye ait DNA'nın kendini daha kısa sürede eşleyebildiği tespit edilmiştir.

Bu durumun nedeniyle ilgili;

- I. ökaryotik hücrede DNA polimerazın nükleotit ekleme hızının prokaryotik hücredekinden yüksek olması,
- II. ökaryotik hücrenin DNA'sında birden fazla replikasyon orijininin bulunması,
- III. ökaryotik hücrede kromozomun doğrusal, prokaryotik hücrede ise halka şeklinde düzenlenmiş olması

ifadelerinden hangileri doğrudur?

- A) Yalnız I B) Yalnız II C) Yalnız III
D) I ve II E) II ve III

35. Canlılarda genetik bilgi akışının,

DNA → RNA → Polipeptit

yönünde olduğu bilinmektedir.

Sentezlenen bu polipeptitler daha sonra işlevsel veya yapısal proteinlere dönüştürülür.

Bu süreç sonucunda aşağıdaki moleküllerden hangisinin oluştuğu söylenemez?

- A) Pepsinojen B) Aktin C) Keratin
D) Albümin E) Metiyonin

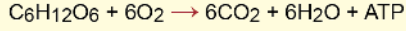
36. Kodonların özellikleriyle ilgili aşağıdaki ifadelerden hangisi yanlıştır?

- A) Üç tanesi dur kodonu olmak üzere toplam 64 çeşit kodon vardır.
- B) Aynı amino asit birden fazla kodonla kodlanabilir.
- C) tRNA moleküllerinde mRNA'daki kodonlara karşılık gelen antikodonlar yer alır.
- D) Genellikle bir kodon, birden fazla amino asit kodlamaz.
- E) Kural olarak her türün kendine özgü kodonları vardır.

37. Bir canlının fotosentez yapabilmesi için aşağıdakilerden hangisine kesinlikle sahip olması gerekir?

- A) Kloroplasta
B) Suyu ayrıştırabilen enzime
C) Güneş ışığını soğuran pigmente
D) Ökaryotik hücre yapısına
E) Mitokondriye

38. Glikoz molekülünün oksijenli solunumda yıkılarak enerji elde edildiği bilinmektedir. Bu süreç genel bir denklemle aşağıdaki gibi özetlenmektedir.



Oksijenli solunum yapan bir canlıya işaretli oksijen molekülleri verilecek olursa hücresel solunum sırasında bu işaretli oksijene;

- I. pirüvik asitten asetil CoA oluşumu sırasında açığa çıkan CO₂,
- II. Krebs döngüsünde açığa çıkan CO₂,
- III. elektron taşıma sisteminde oluşan H₂O

moleküllerinin hangilerinde rastlanması beklenir?

- A) Yalnız I B) Yalnız II C) Yalnız III
D) I ve II E) I, II ve III

39. Bilim insanlarından oluşan araştırma ekibi, bir savana ekosisteminde yer alan bazı canlı türleri arasındaki ilişkileri incelemektedir.

Ekip;

- öküzbaşı antiloplar, yaban domuzları, zebra, ceylanlar gibi büyük memelilerin otlamaları sırasında ürettikleri böcekleri kolaylıkla avlayan sığır kuşlarını,
- derilerine yerleşen kenelerden kurtulmak için firavun farelerinin bu keneleri yemesine izin veren yaban domuzlarını,
- bir ceylanı avlayan çitanın henüz beslenmesinin başlangıcındayken avını terk etmesine neden olan sırtlanları

gözlemleyerek kaydetmiştir.

Bu araştırma ekibinin gözlemlediği canlılar arasındaki etkileşimlerle ilgili aşağıdaki ifadelerden hangisi yanlıştır?

- A) Büyük memeli hayvanları ile sığır kuşları arasında komensal ilişki bulunur.
- B) Yaban domuzları ile firavun faresi arasında amensal ilişki bulunur.
- C) Keneler ile firavun faresi arasında av-avcı ilişkisi bulunur.
- D) Çita ile sırtlanlar arasında rekabet ilişkisi bulunur.
- E) Keneler ile yaban domuzları arasında parazitlik ilişkisi bulunur.

40. Popülasyonları oluşturan bireylerin yayılış alanında gösterdikleri kümeli dağılımla ilgili aşağıdaki ifadelerden hangisi yanlıştır?

- A) Doğada en yaygın görülen dağılım modelidir.
- B) Grupları oluşturan bireylerin sayısı değişiklik gösterebilir.
- C) Hayvanlar avcılarına karşı kendilerini daha iyi savunabilmek için kümeli dağılım gösterebilir.
- D) Üreme döneminde karada alan savunması yapan kral penguenler kümeli dağılım sergiler.
- E) Mantarların besinin bol olduğu yerde toplanması kümeli dağılıma örnektir.

SINAVDA UYULACAK KURALLAR

1. Sınav salonunda saate entegre kamera ile kayıt yapılıyor ise kamera kayıtlarının incelenmesinden sonra sınav kurallarına uymadığı tespit edilen adayların sınavları, ÖSYM Yönetim Kurulunca geçersiz sayılacaktır.
2. **Cep telefonu ile sınava girmek kesinlikle yasaktır.** Adayların sınav binasına; her türlü delici ve kesici alet, ateşli silah, çanta, cüzdan, cep telefonu, saat (kol saati ve her türlü saat), anahtarlık, her türlü araç anahtarı, kablosuz iletişim sağlayan bluetooth ve benzeri cihazlar ile; kulaklık, kolye, küpe, yüzük (**alyans hariç**), bilezik broş ve diğer takılar, her türlü plastik, cam eşya (**şeffaf/numaralı gözlük hariç**), plastik ve metal içerikli eşyalar (**başörtü için kullanılan boncuklu/boncuksuz toplu iğne, para, anahtarlıksız basit anahtar, ulaşım kartı, basit tokalı kemer, basit tel toka ve basit piercing (taşsız, metal top veya sivri uçlu) hariç**) banka/kredi kartı vb. kartlarla, her türlü elektronik/mekanik cihaz ve her türlü müsvedde kâğıt, defter, kalem, silgi, kalemtraş, kitap, ders notu, sözlük, dergi, gazete ve benzeri yayınlar, cetvel, pergel, açıölçer ve bu gibi araçlarla, yiyecek içecek (**şeffaf pet şişe içerisinde bandajı çıkarılmış su hariç**), ilaç ve diğer tüketim maddeleri ile gelmeleri yasaktır. Bu tür eşya, araç-gereçlerle sınava girmiş adaylar mutlaka Salon Tutanağı'na yazılacak, bu adayların sınavı geçersiz sayılacaktır. **Ancak, ÖSYM Başkanlığı tarafından belirlenen Engelli ve Yedek Sınav Evrakı Yönetim Merkezi (YSYM) binalarında sınava girecek olan engelli adayların sınav giriş belgelerinde yazılı olan araç-gereçler, cihazlar vb. hakkında belirtilen yasakların kapsamı dışında değerlendirilecektir.**
3. Bu sınav için verilen cevaplama süresi **180 dakikadır (3 saat)**. Sınav başladıktan sonra **ilk 90 dakika** içinde adayın sınavdan çıkmasına kesinlikle izin verilmeyecektir. **Bu süreler dışında, cevaplama sınav bitmeden tamamlarsanız cevap kâğıdınızı ve soru kitapçığınızı salon görevlilerine teslim ederek salonu terk edebilirsiniz. Bildirilen sürelerle aykırı davranışlardan adayın kendisi sorumludur.**
4. **Sınav salonundan ayrılan aday, her ne sebeple olursa olsun, tekrar sınav salonuna alınmayacaktır.**
5. Sınav süresince görevlilerle konuşmak, görevlilere soru sormak yasaktır. Aynı şekilde görevlilerin de adaylarla yakından ve alçak sesle konuşmaları ayrıca adayların birbirinden kalem, silgi vb. şeyleri istemeleri kesinlikle yasaktır.
6. Sınav sırasında, görevlilerin her türlü uyarısına uymak zorundasınız. Sınavınızın geçerli sayılması, her şeyden önce, sınav kurallarına uymanıza bağlıdır. Kurallara aykırı davranışta bulunanlar ve yapılacak uyarılara uymayanlar Salon Tutanağı'na yazılacak ve sınavları geçersiz sayılacaktır.
7. Sınav sırasında kopya çeken, çekmeye kalkışan, kopya veren, kopya çekilmesine yardım edenler Salon Tutanağı'na yazılacak ve bu adayların sınavları geçersiz sayılacaktır. Adayların test sorularına verdikleri cevapların dağılımları bilgi işlem yöntemleriyle incelenecek, bu incelemelerden elde edilen bulgular bireysel veya toplu olarak kopya çekildiğini gösterirse kopya eylemine katılan adayın/adayların sınavı geçersiz sayılacak ayrıca bu aday/adaylar 2 yıl boyunca ÖSYM tarafından düzenlenen hiçbir sınava başvuru yapamayacak ve sınava giremeyecektir. Sınav görevlileri bir salondaki sınavın, kurallara uygun biçimde yapılmadığını, toplu kopya girişiminde bulunduğu raporlarında bildirdiği takdirde, ÖSYM bu salonda sınava giren tüm adayların sınavını geçersiz sayabilir.
8. Cevap kâğıdında doldurmanız gereken alanlar bulunmaktadır. Bu alanları doldurunuz. Cevap kâğıdınızı başkaları tarafından görülmeyecek şekilde tutmanız gerekmektedir. Cevap kâğıdına yazılacak her türlü yazıda ve yapılacak bütün işaretlemelerde kurşun kalem kullanılacaktır. Sınav süresi bittiğinde cevapların, cevap kâğıdına işaretlenmiş olması gerekir. Soru kitapçığına işaretlenen cevaplar geçerli değildir.
9. Soru kitapçığınızı alır almaz kitapçık kapağında bulunan alanları doldurunuz. Size söylendiği zaman sayfaların eksik olup olmadığını, kitapçıkta basım hatalarının bulunup bulunmadığını ve soru kitapçığının her sayfasında basılı bulunan soru kitapçık numarasının, kitapçığın ön kapağında basılı soru kitapçık numarasıyla aynı olup olmadığını kontrol ediniz. Soru kitapçığının sayfası eksik veya basımı hatalıysa değiştirilmesi için salon başkanına başvurunuz. **Size verilen soru kitapçığının numarasını cevap kâğıdınızdaki "Soru Kitapçık Numarası" alanına yazınız ve kodlayınız. Cevap kâğıdınızdaki "Soru kitapçık numaramı doğru kodladım." kutucuğunu işaretleyiniz. Soru kitapçığı üzerinde yer alan Soru Kitapçık Numarasını doğru kodladığınızı beyan eden alanı imzalayınız.**
10. Sınav sonunda soru kitapçıkları toplanacak ve ÖSYM'de incelenecektir. Soru kitapçığının sayfalarını koparmayınız. Soru kitapçığının bir sayfası bile eksik çıkarsa sınavınız geçersiz sayılacaktır.
11. Cevap kâğıdına ve soru kitapçığına yazılması ve işaretlenmesi gereken bilgilerde bir eksiklik ve/veya yanlışlık olması hâlinde sınavınızın değerlendirilmesi mümkün değildir, bu husustaki özen yükümlülüğü ve sorumluluk size aittir.
12. Soruları ve/veya bu sorulara verdiğiniz cevapları ayrı bir kâğıda yazıp bu kâğıdı dışarı çıkarmanız kesinlikle yasaktır.
13. **Sınav salonundan ayrılmadan önce, soru kitapçığınızı, cevap kâğıdınızı ve sınava giriş belgenizi salon görevlilerine eksiksiz olarak teslim ediniz. Bu konudaki sorumluluk size aittir.**
14. Sınav süresi salon görevlilerinin "SINAV BAŞLAMIŞTIR" uyarısıyla başlar, "SINAV BİTMİŞTİR" uyarısıyla sona erer.

Bu testlerin her hakkı saklıdır. Hangi amaçla olursa olsun, testlerin tamamının veya bir kısmının Merkezimizin yazılı izni olmadan kopya edilmesi, fotoğrafının çekilmesi, herhangi bir yolla çoğaltılması, yayımlanması ya da kullanılması yasaktır. Bu yasağa uymayanlar gerekli cezai sorumluluğu ve doğacak tüm mali külfeti peşinen kabullenmiş sayılır.

2020 ALAN YETERLİLİK TESTLERİ (AYT)

YKS 2. OTURUM ALAN YETERLİLİK TESTLERİ (AYT)

28-06-2020

TÜRK DİLİ VE
EDEBİYATI-SOSYAL
BİLİMLER-1 TESTİ

1. D
2. B
3. C
4. E
5. D
6. C
7. A
8. B
9. D
10. B
11. C
12. A
13. E
14. A
15. E
16. D
17. E
18. B
19. C
20. A
21. D
22. C
23. E
24. A
25. D
26. C
27. A
28. E
29. A
30. E
31. C
32. E
33. B
34. D
35. D
36. A
37. B
38. C
39. D
40. E

SOSYAL BİLİMLER-2 TESTİ

1. A
2. E
3. D
4. A
5. C
6. D
7. E
8. C
9. B
10. B
11. C
12. A
13. E
14. D
15. B
16. A
17. B
18. E
19. D
20. C
21. C
22. D
23. E
24. C
25. B
26. E
27. B
28. A
29. B
30. D
31. B
32. D
33. C
34. C
35. B
36. C
37. A
38. C
39. E
40. D
41. B
42. A
43. C
44. D
45. E
46. D

MATEMATİK TESTİ

1. B
2. B
3. E
4. D
5. D
6. B
7. D
8. A
9. E
10. B
11. D
12. B
13. D
14. C
15. E
16. A
17. E
18. C
19. E
20. A
21. E
22. C
23. D
24. E
25. D
26. D
27. A
28. A
29. D
30. E
31. D
32. C
33. B
34. B
35. C
36. E
37. C
38. A
39. A
40. C

FEN BİLİMLERİ TESTİ

1. C
2. C
3. C
4. D
5. E
6. C
7. A
8. B
9. A
10. A
11. B
12. C
13. A
14. A
15. D
16. D
17. D
18. C
19. B
20. C
21. B
22. A
23. E
24. A
25. E
26. D
27. D
28. B
29. E
30. C
31. B
32. E
33. C
34. B
35. E
36. E
37. C
38. C
39. B
40. D

Bu soruların telif hakkı ÖSYM'ye aittir. Sorular ÖSYM'nin yazılı izni olmaksızın hiçbir kişi, kurum veya kuruluş tarafından kullanılamaz.